

Schatten en controleren.

Schat eerst tussen welke 100-tallen het antwoord valt. Maak dan de som met je rekenmachine.

de som	tussen welke 100-tallen?	het antwoord	goed geschat?
$257 + 319 =$	500 en 600	576	ja/nee
$937 - 317 =$	600 en 700	620	ja/nee
$294 + 353 =$	600 en 700	647	ja/nee
$467 - 251 =$	200 en 300	216	ja/nee

Getallen intoetsen op de rekenmachine.

Toets de getallen in. Schrijf op wat je op het scherm ziet.

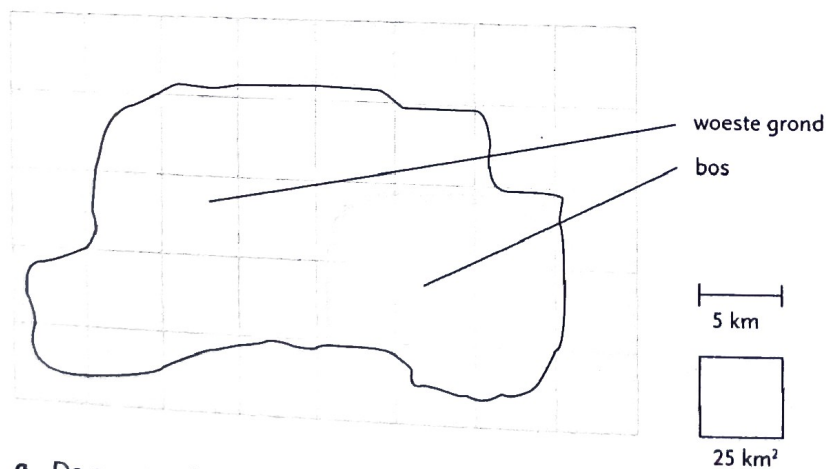
- a twintig 20
 twee tienden 0.2
 twee honderdsten 0.02
 dertien honderdsten 0.13
- b één en twee tienden 1.2
 één en twee honderdsten 1.02
 elf en twintig honderdsten 11.20
 twintig en twee honderdsten 20.02

Maak de som bij het verhaaltje.

- a Niels koopt 6 bioscoopkaartjes voor € 13,50 per stuk. Hoeveel moet hij betalen? Schrijf op wat je intoetst.
 ON $6 \times 13.50 =$
 Hij moet € 81 betalen.
- b Julia heeft € 464,75 gespaard. Zij koopt een tent voor € 425,85. Hoeveel houdt zij over? Schrijf op wat je intoetst.
 ON $464.75 - 425.85 =$
 Zij houdt € 38,90 over.

Hoe groot is het eiland?

Vul in.




- a De grootste lengte van het eiland is 6,5 × 5 = 32,5 km.
 b De grootste breedte is 3,5 × 5 = 17,5 km.
 c De oppervlakte is ongeveer 20 × 25 = 500 km².
 d De oppervlakte van het bos is ongeveer 6 × 25 = 150 km².
 e De woeste grond is ongeveer 500 - 150 = 350 km².

5 Waar liggen de kommagetallen dichter bij?
Zet een rondje om het goede antwoord.

- a 6,1 dichter bij 6 of bij 7?
3,3 dichter bij 3 of bij 4?
- b 15,6 dichter bij 15 of bij 16?
12,1 dichter bij 12 of bij 13?
- c 8,14 dichter bij 8 of bij 9?
11,92 dichter bij 11 of bij 12?
- d 8,48 dichter bij 8 of bij 9?
5,55 dichter bij 5 of bij 6?


6 Waar hoort de komma?
Zet de komma op de goede plek.

a




8 1,7 5 kg

b




2,6 4 kg

c



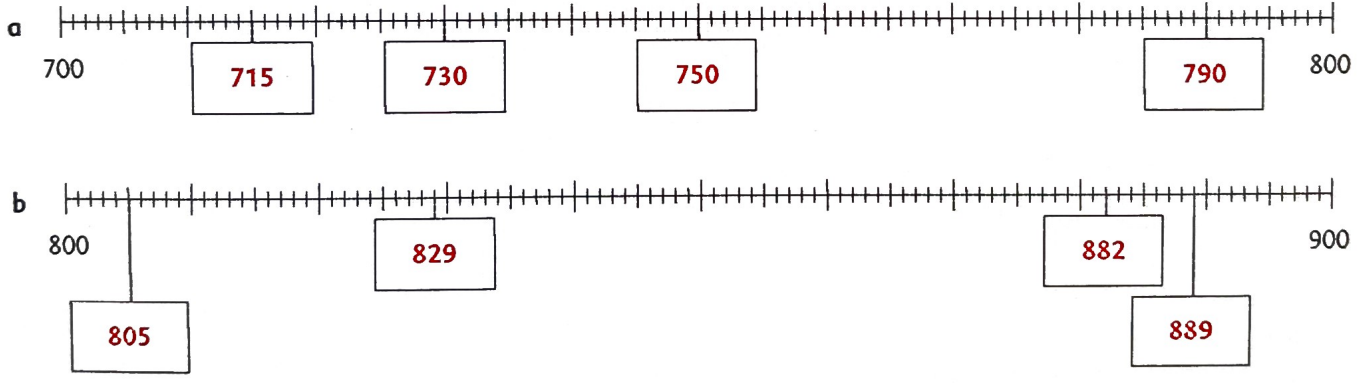
5,1 4 kg

d



3 4,6 5 kg

7 Welke getallen horen in de hokjes?



8 Tel verder.

a Met sprongen van 1000.

3000	4000	5000	6000	7000	8000	9000
1500	2500	3500	4500	5500	6500	7500

b Met sprongen van 200.

8800	9000	9200	9400	9600	9800	10 000
7500	7700	7900	8100	8300	8500	8700