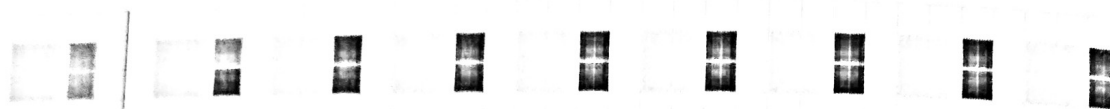


les 25 herhalen

Ga zo verder.


Maak de tegelrand af.



- a Hoe groot zijn de vaste groepjes? 4 en 2
- b Hoeveel patronen kun je maken? 8
- c Hoeveel grijze tegels zijn nodig voor de rand? 8 × 4 = 32 tegels
- d Hoeveel zwarte tegels zijn nodig voor de rand? 8 × 2 = 16 tegels

Ga zo verder.

Maak de tegelrand af.

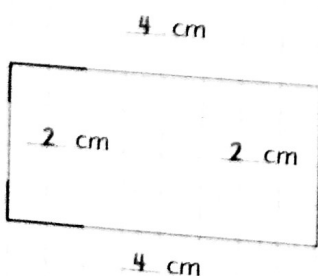
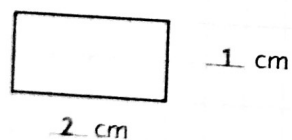


- a Hoe groot zijn de vaste groepjes? 5 en 3
- b Hoeveel patronen kun je maken? 5
- c Hoeveel grijze tegels zijn nodig voor de rand? 5 × 5 = 25 tegels
- d Hoeveel zwarte tegels zijn nodig voor de rand? 5 × 3 = 15 tegels

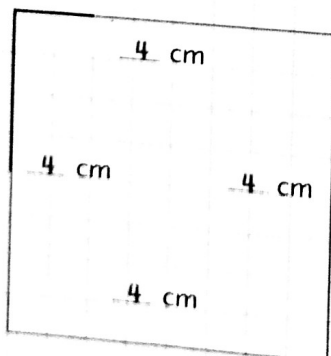
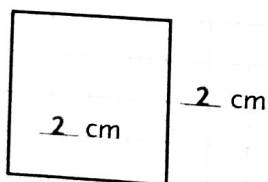
Meet en teken.

Gebruik je liniaal.

- a Meet alle lijnen en vul de lengte in.



- b Teken de figuur na. Maak alle lijnen 2 keer zo lang.



- c Schrijf bij elke lijn die je tekent hoe lang die is.

