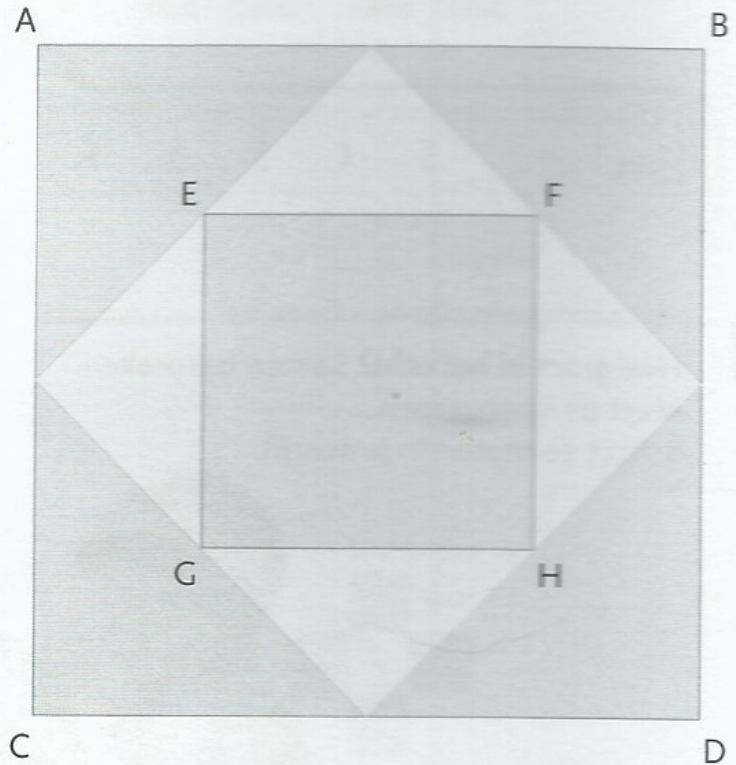


1 Teken lijnen in je schrift. Samen bespreken.

- a van 3 cm b van 5 cm c van 6 cm d van 9 cm e van 8 cm en 3 mm

2 Hoe lang is het?


- a Van A naar B? 8 cm
 b van E naar F? 4 cm
 c Van A naar C? 8 cm
 d Van E naar F naar H naar G en terug naar E? 16 cm




3 Teken de figuren precies na.

Eerst meten.

- a 6 cm bij 4 cm



- b rechte lijnen 6 cm bij 4 cm, schuine lijnen alle 5 cm



4 Vul in.

- | | | | | | | | | | | | | | | | |
|---|-------|----|------|----|-------|----|------|----|-------|----|------|----|----|----|----|
| a | start | | stop | b | start | | stop | c | start | | stop | | | | |
| | 30 | +5 | 35 | +5 | 40 | 16 | +4 | 20 | +4 | 24 | 18 | +3 | 21 | +3 | 24 |
| | 25 | +5 | 30 | +5 | 35 | 20 | +4 | 24 | +4 | 28 | 15 | +3 | 18 | +3 | 21 |