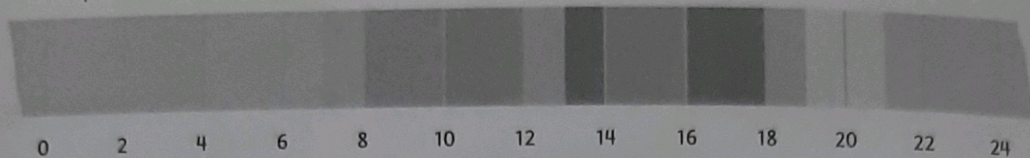


1

Wat doet Jessica op een dag?

Kijk wat Jessica doet en beantwoord de vragen.

■ slapen ■ school ■ sport en spel ■ televisiekijken ■ overige



- a Jessica slaapt 10 uur. Ze zit 6 uur op school.
- b Ze kijkt tv van 19 tot 21 uur. Dat is 2 uur.
- c Jessica staat om 7 uur op en gaat naar bed om 21 uur.

2

Eerder en later.

Vul de goede tijden in.

een kwartier eerder	09.15	14.15	15.05	18.25	19.30	20.40
de tijd nu	09.30	14.30	15.20	18.40	19.45	20.55
een kwartier later	09.45	14.45	15.35	18.55	20.00	21.10

3

Halen de reizigers de trein?

Vul in hoeveel minuten ze te vroeg of te laat zijn en zet een rondje om het goede antwoord.




- a Ze halen de trein wel/niet.
Ze zijn 3 minuten te vroeg/te laat.
- b Ze halen de trein wel/niet.
Ze zijn 4 minuten te vroeg/te laat.


4

Hoe laat is het?


Vul de digitale tijden in.




's morgens



's middags



's avonds



's middags



's avonds

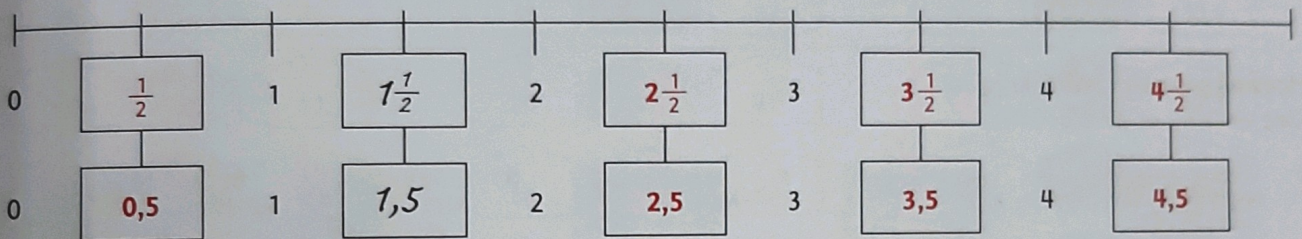
5 Welke kaartjes betekenen hetzelfde?
Geef ze dezelfde kleur.

1 op de 2 1 op de 4 een kwart de helft $\frac{1}{4}$ $\frac{1}{4}$ $\frac{1}{10}$

75% 20% 3 op de 4 een tiende driekwart $\frac{1}{2}$ een vijfde

1 op de 5 10% $\frac{1}{5}$ 50% 1 op de 10 25%

6 Welke getallen horen in de hokjes?
Vul in.



7 De rekenmachine.

- a Kim heeft € 788,50. Ze koopt een tent voor € 147,90. Hoeveel houdt ze over? Maak een rekenstrook.
ON of CL 7 8 8 PUNT 5 0 - 1 4 7 PUNT 9 0 = 640.6
Ze houdt over € 640,60
- b Daniël heeft € 537,50. Hij koopt een mp3-speler voor € 99,90. Hoeveel houdt hij over? Maak een rekenstrook.
ON of CL 5 3 7 PUNT 5 0 - 9 9 PUNT 9 0 = 437.6
Hij houdt over € 437,60
- c Mourad rekt deze som uit op de rekenmachine: € 89,50 - € 35,30. Hij schrijft zijn antwoord zo op: 54.2 Klopt dat? Nee, het moet zijn € 54,20.

8 Aftrekken met doortellen.

Vul in hoeveel munten of briefjes je terugkrijgt en schrijf het bedrag op.

Te betalen: Afgerond:		Je geeft:							Terug:		
€ 5,34	€ 5,35	€ 10	1	1		1		2			€ 4,65
€ 8,59	€ 8,60	€ 10			2		1				€ 1,40
€ 12,87	€ 12,85	€ 20	1	1				1	1		€ 7,15
€ 37,63	€ 37,65	€ 50	1	1	1			1		1	€ 12,35
€ 67,88	€ 67,90	€ 70		1				1			€ 2,10