

Beste leerlingen van groep 7,

De eerste week is achter de rug. Als het goed is heb je het werk van vorige week helemaal afgerond en nagekeken. Vandaag gaan we de week beginnen met een herhalingsles. Zo kun je ook een beeld vormen van wat je al goed beheerst en waaraan je misschien nog kunt werken.

Van deze **herhalingsles les 15 van blok 3 op blz. 102 en 103** moet je de volgende opdrachten maken:

Opdracht 1: b en c in je schrift in cijfers opschrijven.

Opdracht 2: a en b met berekening

Opdracht 4: a, b en c in je schrift helemaal opschrijven en het antwoord een ander kleurtje geven.

Opdracht 5: a en b, alleen de antwoorden

Opdracht 7: a, b en c alleen de antwoorden

Opdracht 8: a, b en c alleen de antwoorden.

Daarnaast is het belangrijk om te het brein te stimuleren met hoofdrekenommen. Maak dan ook in je Coronaschrift de opdrachten op blz. 119 van je leerlingenboek. Je moet alleen de antwoorden opschrijven.

Voor de leerlingen met een **maatschrift** hebben we ook enkele taken toegevoegd

Voor vandaag moeten de leerlingen met een maatschrift blz. 18 en 19 maken.

Opdracht 1, 2 en 4 van blz. 18 en van blz.19 opdracht 5, 6, 7 en 8

Succes!!!

1

Schatten en controleren.

Schat eerst tussen welke 100-tallen het antwoord valt. Maak dan de som met je rekenmachine.

de som	tussen welke 100-tallen?	het antwoord	goed geschat?
$257 + 319 =$	500 en 600		ja/nee
$937 - 317 =$	en		ja/nee
$294 + 353 =$	en		ja/nee
$467 - 251 =$	en		ja/nee

2

Getallen intoetsen op de rekenmachine.

Toets de getallen in. Schrijf op wat je op het scherm ziet.

a twintig _____

twee tienden _____

twee honderdsten _____

dertien honderdsten _____

b één en twee tienden _____

één en twee honderdsten _____

elf en twintig honderdsten _____

twintig en twee honderdsten _____

3

Maak de som bij het verhaaltje.

a Niels koopt 6 bioscoopkaartjes voor € 13,50 per stuk. Hoeveel moet hij betalen? Schrijf op wat je intoetst.

Hij moet € _____ betalen.

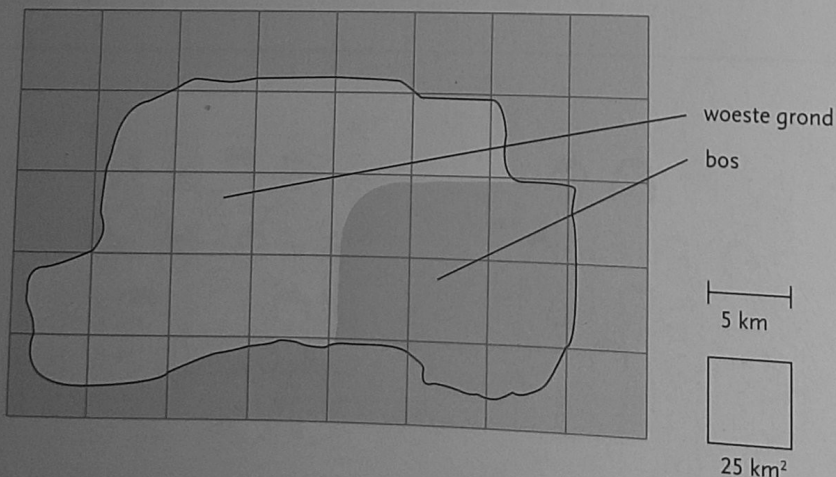
b Julia heeft € 464,75 gespaard. Zij koopt een tent voor € 425,85. Hoeveel houdt zij over? Schrijf op wat je intoetst.

Zij houdt € _____ over.

4

Hoe groot is het eiland?

Vul in.



a De grootste lengte van het eiland is _____ $\times 5 =$ _____ km.

b De grootste breedte is _____ \times _____ = _____ km.

c De oppervlakte is ongeveer _____ $\times 25 =$ _____ km².

d De oppervlakte van het bos is ongeveer _____ \times _____ = _____ km².

e De woeste grond is ongeveer _____ $-$ _____ = _____ km².

5 Waar liggen de kommagetallen dichterbij?

Zet een rondje om het goede antwoord.

- a 6,1 dichterbij 6 of bij 7?
3,3 dichterbij 3 of bij 4?
- b 15,6 dichterbij 15 of bij 16?
12,1 dichterbij 12 of bij 13?
- c 8,14 dichterbij 8 of bij 9?
11,92 dichterbij 11 of bij 12?
- d 8,48 dichterbij 8 of bij 9?
5,55 dichterbij 5 of bij 6?

6 Waar hoort de komma?

Zet de komma op de goede plek.

a



8 1 7 5 kg

b



2 6 4 kg

c





5 1 4 kg

d




3 4 6 5 kg

7 Welke getallen horen in de hokjes?



8 Tel verder.

a Met sprongen van 1000.



b Met sprongen van 200.

