

Vandaag ga je aan de slag met opdrachten die te maken hebben met tijd

Neem eerst deze aantekeningen over tijd door en bekijk dit instructiefilmpje. De opdrachten Tijd:

Tot nu toe hebben jullie de tijdseenheden: uur, minuten en seconden, geleerd. Deze tijdseenheden hebben allemaal een totaal van 60 eenheden. Maar er bestaan ook andere kleinere tijdseenheden. Daar worden de eenheden een veelvoud van 100.

Etmaal	1 uur	1 minuut	1 seconde
24 uren	60 minuten	60 seconden	Let op heeft veelvoud van 100 eenheden . 1 seconde = 1000 milliseconde

Van les 18 maak je vandaag :

Bekijk eerst dit instructiefilmpje: <https://www.youtube.com/watch?v=EJcBfGjGjGs> de opdrachten die in de film worden opgenoemd moet je niet maken.

Opdracht 3: 1 kwartier eerder is -15 minuten en een kwartier later is +15

Opdracht 4: tip als 41,80 op een stopwatch staat, geeft dat aan dat een persoon in 41 seconden en $\frac{80}{100}$ (tachtig honderdste) van een seconde een afstand heeft afgelegd. 2.13,80 geeft dat aan dat een persoon in 2 minuut, 13 seconden en $\frac{80}{100}$ (tachtig honderdste) van een seconde een afstand heeft afgelegd.

Van les 19 maak je vandaag:

Opdracht 1: a, b, c en d alleen antwoorden

Opdracht 2: a, b en c9 bij c (moet je eerst 10 000 meter omzetten in kilometers)

Opdracht 3 : a en b met berekening

Opdracht 4: a, b en c alleen antwoorden

Werkchrift blz. 28

Opdracht 1 t/m 4 alle opdrachten maken. Deze les gaat over procenten en kommagetallen.

Tip voor opdracht 1: tel eerst in hoeveel stukken het cirkel verdeeld is, vervolgens moet je ook de waarde van elk stuk van het cirkel uitrekenen. Als het cirkel in 10 stukken verdeeld is dan is elk stuk 10% waard.

Kommagetallen worden zo uitgesproken: $\frac{1}{10}$ = één tiende , $\frac{1}{100}$ = één honderdste en

$\frac{1}{1000}$ = één duizendste

Maatschrift blz. 22 en 23:

Deze opdrachten zijn alleen voor de leerlingen die een maatschrift hebben.

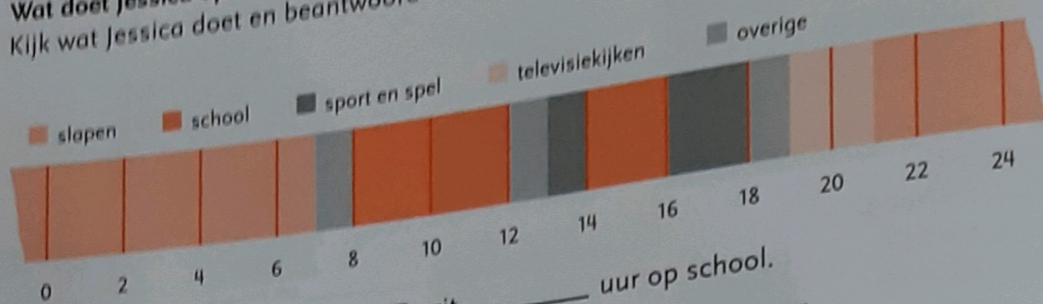
Opdracht 1 is een staafgrafiek van het aantal uren waarin Jessica bepaalde activiteiten uitvoert. De opdrachten 1 t/m 4 moeten allemaal gemaakt worden. Van blz. 23 maak je opdracht 5,6 en 8.

Opdracht 1 t/m 8 alles maken.

Veel Succes!

1

Wat doet Jessica op een dag?
Kijk wat Jessica doet en beantwoord de vragen.



- a Jessica slaapt _____ uur. Ze zit _____ uur op school.
 b Ze kijkt tv van _____ tot _____ uur. Dat is _____ uur.
 c Jessica staat om _____ uur op en gaat naar bed om _____ uur.

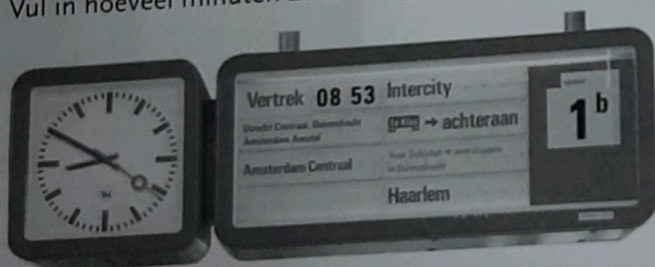
2

Eerder en later.
Vul de goede tijden in.

een kwartier eerder	09.15					
de tijd nu	09.30	14.30	15.20	18.40	19.45	20.55
een kwartier later	09.45					

3

Halen de reizigers de trein?
Vul in hoeveel minuten ze te vroeg of te laat zijn en zet een rondje om het goede antwoord.




- a Ze halen de trein wel/niet.
Ze zijn _____ minuten te vroeg/te laat.


- b Ze halen de trein wel/niet.
Ze zijn _____ minuten te vroeg/te laat.

4

Hoe laat is het?
Vul de digitale tijden in.




's morgens



's middags



's avonds



's middags



's avonds

