

1

Verdeel in 2 even grote stukken. Meer antwoorden.
Hoeveel kosten de helften?

a



Een hele cake kost € 2.

€ 1

b



Een hele cake kost € 5.

€ 2,50

c



Een hele taart kost € 6,50.

€ 3,25

d



Een hele taart kost € 7,20.

€ 3,60

e



Een hele taart kost € 9,30.

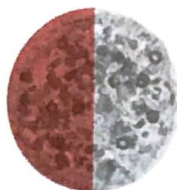
€ 4,65

2

Verdeel de pizza's.

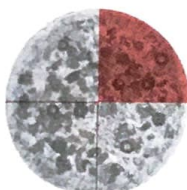
Hoeveel kosten de stukken? Een hele pizza kost € 6.

a Kleur $\frac{1}{2}$ pizza.




$\frac{1}{2}$ pizza kost € 3

b Kleur $\frac{1}{4}$ pizza.



$\frac{1}{4}$ pizza kost € 1,50

c Kleur $\frac{1}{3}$ pizza.



$\frac{1}{3}$ pizza kost € 2

d Kleur $\frac{1}{6}$ pizza.



$\frac{1}{6}$ pizza kost € 1

3

Reken uit en kleur de somkaartjes.

Kleur de sommen met een oneven uitkomst rood.

Kleur de sommen met een even uitkomst blauw.

 = oneven
 = even

a

$8 \times 4 = 32$
$9 \times 3 = 27$
$4 \times 5 = 20$
$7 \times 6 = 42$

b

$7 \times 8 = 56$
$9 \times 4 = 36$
$9 \times 9 = 81$
$8 \times 6 = 48$

c

$15 \times 3 = 45$
$12 \times 4 = 48$
$16 \times 2 = 32$
$7 \times 11 = 77$

d

$25 \times 6 = 150$
$23 \times 9 = 207$
$7 \times 39 = 273$
$8 \times 43 = 344$

4

Hoeveel stuks zijn het?

Schrijf de som op en laat zien hoe je rekent.

a 5 dozen met in elke doos 15 potloden. $5 \times 15 = 5 \times 10 + 5 \times 5 = 50 + 25 = 75$ potloden

b 11 kratten met in elk krat 24 flessen. $11 \times 24 = 240 + 24 = 264$ flessen

c 4 steekwagens met op elke steekwagen steeds 8 kratten en met in elk krat 12 planten.

$4 \times 8 \times 12 = 32 \times 12 = 360 + 24 = 384$ planten