

1 Vul de nieuwe tijden in.



Wegens werkzaamheden op het traject Utrecht - Driebergen-Zeist hebben alle treinen tussen Utrecht en Arnhem 20 minuten vertraging.

		a	b	c	d	●	●
Utrecht CS	V	12.05	12.35	13.04	13.34	13.58	14.28
Driebergen-Zeist		12.15	12.45	13.13	13.43	14.07	14.37
Ede-Wageningen		12.35	13.05	13.33	14.03	14.27	14.57
Arnhem	A	12.45	13.15	13.42	14.12	14.36	15.06

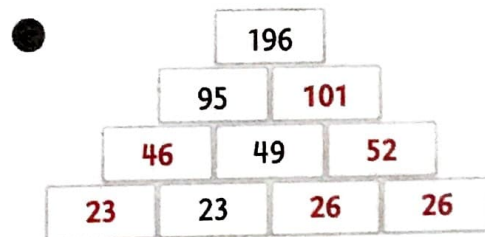
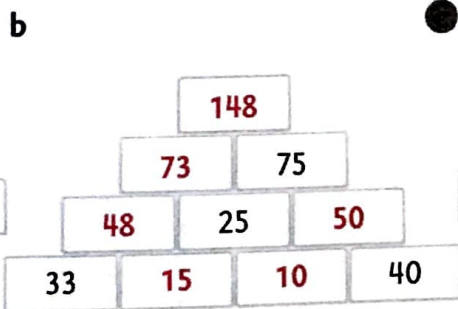
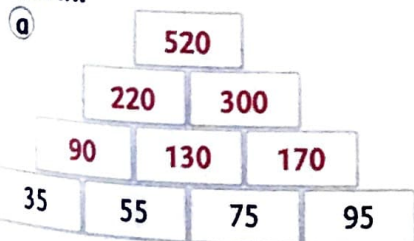
		a	b	c	d	●	●
Utrecht CS	V	12.25	12.55	13.24	13.54	14.18	14.48
Driebergen-Zeist		12.35	13.05	13.33	14.03	14.27	14.57
Ede-Wageningen		12.55	13.25	13.53	14.23	14.47	15.17
Arnhem	A	13.05	13.35	14.02	14.32	14.56	15.26

2 Schrijf de tijden in woorden.

06.45 *kwart voor 7*

- a 08.35 *vijf over half negen*
- b 09.55 *vijf voor tien*
- c 11.30 *half twaalf*
- d 10.25 *vijf voor half elf*
- e 12.48 *twaalf (minuten) voor een*
- 15.41 *elf (minuten) over half vier of negentien (minuten) voor vier*

3 Vul in.



4 Kleur de sommen waar meer dan 1000 uitkomt. Schat de uitkomsten.

186 + 824

336 + 416

930 + 265

428 + 631

560 + 420

830 + 190

444 + 328

821 + 103