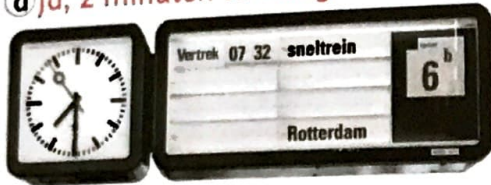
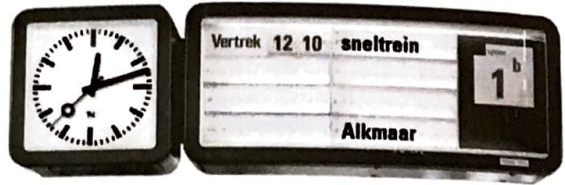


1 Haal je de trein nog?  
Hoeveel minuten ben je te vroeg of te laat?

a Ja, 2 minuten te vroeg.



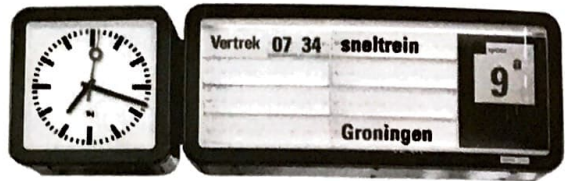
b Nee, 2 minuten te laat.



c Ja, 16 minuten te vroeg.



d Ja, 16 minuten te vroeg.



2 Reis van Venlo naar Den Haag.

Tijd	Station	Spoor
13:19	Venlo	1b
13:59	Eindhoven	4
14:05	Eindhoven	6
15:37	Den Haag HS	5
Tijd	Station	Spoor
14:19	Venlo	1b
14:59	Eindhoven	4
15:05	Eindhoven	6
16:37	Den Haag HS	5
Tijd	Station	Spoor
15:19	Venlo	1b
15:59	Eindhoven	4
16:05	Eindhoven	6
17:37	Den Haag HS	5

a Van welk spoor vertrek je? 1b

b Hoe laat moet je vertrekken als je om 5 uur 's middags in Den Haag wilt zijn? 13.19 of 14.19

c Moet je overstappen? Waaraan zie je dat?

d Het is nu 13.14. Kun je voor vertrek nog een broodje halen? Alleen als je de trein van 14.19 neemt.

e Hoelang ben je in Eindhoven? 6 minuten

f Hoelang duurt de treinreis van Venlo naar Den Haag? 2 uur en 18 minuten

c: Ja, je komt aan op spoor 4 en vertrekt van spoor 6.

3 Wat is het volgende getal?

a



b



c



d

