

## 1 Hoeveel weken?

- a Alwin is precies 5 jaar. Hij is ... weken oud.  
 b Abel is 10 jaar. Hij is meer dan ... weken en minder dan ... weken oud.  
 c Zita is 11 jaar. Zij is meer dan ... weken, maar minder dan ... weken oud.  
 d Nadia is 1000 weken. Zij is ... jaar.

## 2 Beantwoord de vragen.

Antwoord zo precies mogelijk.

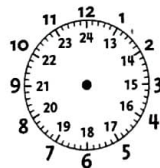
- a Een jaar telt 12 maanden. Hoeveel maanden telt 5 jaar?  
 b 50 maanden is meer dan ... jaar en minder dan ... jaar.  
 c 100 maanden is meer dan ... jaar en minder dan ... jaar.  
 d 100 dagen is meer dan ... maanden en minder dan ... maanden.

## 3 Reken uit.

- a  $2 \times 25 =$       b  $2 \times 35 =$       c  $2 \times 53 =$       d  $2 \times 74 =$   
 $5 \times 25 =$        $5 \times 35 =$        $5 \times 53 =$        $5 \times 74 =$   
 $10 \times 25 =$        $10 \times 35 =$        $10 \times 53 =$        $7 \times 74 =$   
 $20 \times 25 =$        $20 \times 35 =$        $20 \times 53 =$        $12 \times 74 =$

## 4 Hoeveel uren?

- a Een dag telt ... uren.  
 Hoeveel uren tellen 4 dagen?  
 b Een week telt ... uren.  
 c Twee weken tellen ... uren.  
 d De maand juli telt ... uren.



1.66 m



## 5 Hoeveel centimeter lang zijn de anderen?

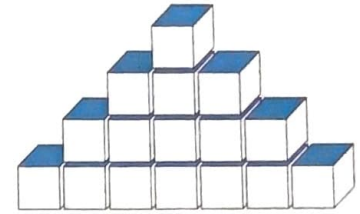
Jeroen is 1 m 66.

- a Zijn broer Dennis is 17 cm kleiner. Dennis is ... cm.  
 b Jeroens kleine zus is half zo lang. Zijn kleine zus is ... cm.  
 c Jeroens vader is 25 cm langer. Zijn vader is ... cm.  
 d Jeroens moeder is 31 cm langer dan Dennis. Zijn moeder is ... cm.

## 6 Hoeveel kubussen tel je?

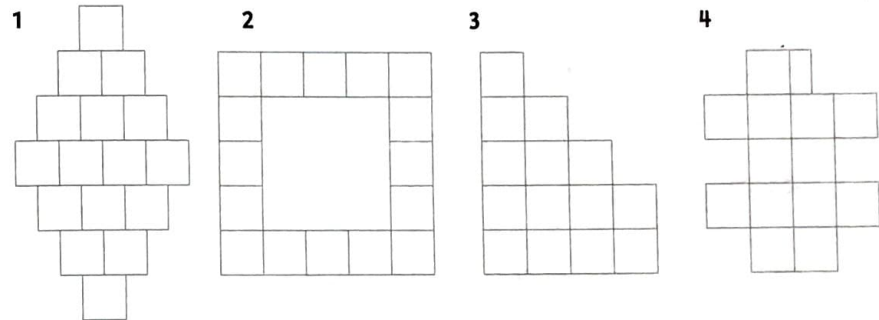
De vorm van de stapel blijft steeds hetzelfde.

- a Hoeveel kubussen tel je?  
 b Als je aan de onderkant een rij kubussen erbij doet, hoeveel zijn het er dan samen?  
 c Als je er 2 rijen bij doet, hoeveel tel je er dan?  
 d Als je er 5 rijen bij doet, hoeveel tel je er dan?



## 7 Hoeveel verf is er nodig?

- a De kleinste figuur wordt blauw geverfd. Welke figuur is het?  
 b De bijna kleinste figuur wordt rood geverfd. Welke figuur is het?  
 c Hoeveel hokjes verf hebben de andere figuren nodig? Beide ... hokjes.  
 d Maak figuur 2 2 keer zo hoog en breed. Hoeveel hokjes verf heb je dan nodig?



## 8 Meneer Winkelman koopt van alle producten een kilo.

- a Hoeveel doosjes frambozen koopt hij?  
 b Hoeveel pakken koffie koopt hij?  
 c Hoeveel doosjes aardbeien koopt hij?  
 d Hoeveel pakjes margarine koopt hij?  
 Hoeveel pakken en doosjes heeft hij dan in zijn winkelwagen liggen?



- 1 **Hoeveel weken?**
- Alwin is precies 5 jaar. Hij is 260 weken oud.
  - Abel is 10 jaar. Hij is meer dan 520 weken en minder dan 572 weken oud.
  - Zita is 11 jaar. Zij is meer dan 572 weken, maar minder dan 624 weken oud.
  - Nadia is 1000 weken. Zij is 19 jaar.

- 2 **Beantwoord de vragen.**  
Antwoord zo precies mogelijk.

- Een jaar telt 12 maanden. Hoeveel maanden telt 5 jaar? 60
- 50 maanden is meer dan  $\frac{4}{5}$  jaar en minder dan  $\frac{5}{4}$  jaar.
- 100 maanden is meer dan  $\frac{8}{9}$  jaar en minder dan  $\frac{9}{8}$  jaar.
- 100 dagen is meer dan  $\frac{3}{4}$  maanden en minder dan  $\frac{4}{3}$  maanden.

- 3 **Reken uit.**

- |   |                      |   |                      |   |                       |   |                      |
|---|----------------------|---|----------------------|---|-----------------------|---|----------------------|
| a | $2 \times 25 = 50$   | b | $2 \times 35 = 70$   | c | $2 \times 53 = 106$   | d | $2 \times 74 = 148$  |
|   | $5 \times 25 = 125$  |   | $5 \times 35 = 175$  |   | $5 \times 53 = 265$   |   | $5 \times 74 = 370$  |
|   | $10 \times 25 = 250$ |   | $10 \times 35 = 350$ |   | $10 \times 53 = 530$  |   | $7 \times 74 = 518$  |
|   | $20 \times 25 = 500$ |   | $20 \times 35 = 700$ |   | $20 \times 53 = 1060$ |   | $12 \times 74 = 888$ |

- 4 **Hoeveel uren?**

- Een dag telt 24 uur.  
Hoeveel uren tellen 4 dagen? 96
- Een week telt 168 uur.
- Twee weken tellen 336 uren.
- De maand juli telt 744 uur.



1.66 m



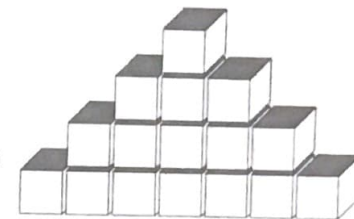
- 5 **Hoeveel centimeter lang zijn de anderen?**

- Jeroen is 1 m 66.
- Zijn broer Dennis is 17 cm kleiner. Dennis is 149 cm.
  - Jeroens kleine zus is half zo lang. Zijn kleine zus is 83 cm.
  - Jeroens vader is 25 cm langer. Zijn vader is 191 cm.
  - Jeroens moeder is 31 cm langer dan Dennis. Zijn moeder is 180 cm.

- 6 **Hoeveel kubussen tel je?**

De vorm van de stapel blijft steeds hetzelfde.

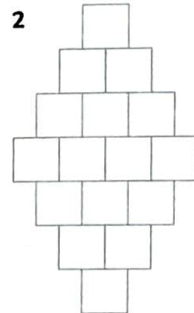
- Hoeveel kubussen tel je? 16
- Als je aan de onderkant een rij kubussen erbij doet, hoeveel zijn het er dan samen? 25
- Als je er 2 rijen bij doet, hoeveel tel je er dan? 36
- Als je er 5 rijen bij doet, hoeveel tel je er dan? 81



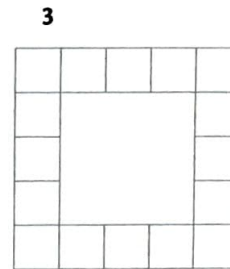
- 7 **Hoeveel verf is er nodig?**

- De kleinste figuur wordt blauw geverfd. Welke figuur is het? 4
- De bijna kleinste figuur wordt rood geverfd. Welke figuur is het? 3
- Hoeveel hokjes verf hebben de andere figuren nodig? Beide 16 hokjes.
- Maak figuur 2 2 keer zo hoog en breed. Hoeveel hokjes verf heb je dan nodig?  
 $4 \times 9 = 36$

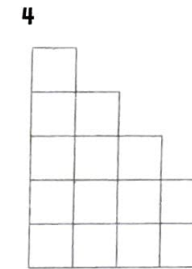
1




2



3



4



- 8 **Meneer Winkelman koopt van alle producten een kilo.**

- Hoeveel doosjes frambozen koopt hij? 10
- Hoeveel pakken koffie koopt hij? 4
- Hoeveel doosjes aardbeien koopt hij? 5
- Hoeveel pakjes margarine koopt hij? 2  
Hoeveel pakken en doosjes heeft hij dan in zijn winkelwagen liggen? 21

