

1 Maak de sommen.

a $33 + 25 =$
 $28 + 29 =$
 $36 + 28 =$
 $44 + 49 =$

b $26 + 29 =$
 $49 + 27 =$
 $34 + 26 =$
 $22 + 29 =$

c $20 + 29 =$
 $49 + 49 =$
 $35 + 27 =$
 $24 + 29 =$

d $37 + 29 =$
 $26 + 19 =$
 $48 + 32 =$
 $45 + 25 =$

2 Maak de sommen.


a $86 - 40 =$
 $50 - 39 =$
 $76 - 19 =$
 $60 - 49 =$

b $82 - 44 =$
 $54 - 39 =$
 $76 - 34 =$
 $58 - 29 =$

c $85 - 41 =$
 $51 - 39 =$
 $71 - 29 =$
 $53 - 39 =$

d $84 - 42 =$
 $52 - 39 =$
 $83 - 43 =$
 $78 - 46 =$

3 Hoeveel voor elk kind?



- a Stan verdeelt een reep met 12 blokjes over 4 kinderen.
Hoeveel blokjes krijgt elk kind?
- b Hij verdeelt de reep over 3 kinderen.
Hoeveel blokjes krijgt elk kind?
- c Hij verdeelt de reep over 2 kinderen.
Hoeveel blokjes krijgt elk kind?

4 Hoeveel voor elk kind?




- a Julia verdeelt 30 snoepjes over 3 kinderen.
Hoeveel snoepjes krijgt elk kind?
- b Ze verdeelt de snoepjes over 5 kinderen.
Hoeveel snoepjes krijgt elk kind?
- c Ze verdeelt de snoepjes over 10 kinderen.
Hoeveel snoepjes krijgt elk kind?


Hoeveel munten krijg je?


Je wisselt


Daarvoor krijg je:







a ... munten van 

b ... munten van 


c ... munten van 

d ... munten van 

e ... x en ... x  

f ... x en ... x  

g ... x en ... x  

h ... x en ... x  

6 In groepjes verdelen.

Hoeveel groepjes?

Hoeveel kinderen over?

Er zijn 18 kinderen.

Er zijn 27 kinderen.

a	in groepjes van 2	9 groepjes	0 over
b	in groepjes van 3		
c	in groepjes van 4		
d	in groepjes van 5		
e	in groepjes van 10		

f	in groepjes van 2		
g	in groepjes van 3		
h	in groepjes van 4		
i	in groepjes van 5		
j	in groepjes van 10		

7 Wat staat er onder de stip?

- a $6 = \bullet \times 3$
 $6 = \bullet \times 2$
 $8 = \bullet \times 2$
 $8 = \bullet \times 4$

- b $9 = \bullet \times 3$
 $10 = \bullet \times 2$
 $10 = \bullet \times 5$
 $12 = \bullet \times 4$


- c $12 = \bullet \times 3$
 $12 = \bullet \times 2$
 $14 = \bullet \times 2$
 $15 = \bullet \times 3$

- d $15 = \bullet \times 5$
 $16 = \bullet \times 2$
 $16 = \bullet \times 4$
 $18 = \bullet \times 2$

8

Verdelen.

- a Verdeel 21 broodjes.
In elke zak kunnen 3 broodjes.
Hoeveel zakjes heb je nodig?
- b Verdeel 60 kaartjes.
In elke doos passen 10 kaartjes.
Hoeveel dozen heb je nodig?
- c Verdeel 16 planten.
In elke pot passen 2 planten.
Hoeveel potten heb je nodig?
- d Verdeel 24 potloden.
In elk bakje passen 4 potloden.
Hoeveel bakjes heb je nodig?




9


Hoeveel van ieder?

- a Je hebt 5 pakken vla.
Met elk pak vul je 5 schaalpjes.
Hoeveel schaalpjes heb je nodig?
- b Je hebt 4 pakken melk.
Met elk pak vul je 4 bekers.
Hoeveel bekers heb je nodig?
- c Je hebt 6 touwtjes.
Je knipt elk touwtje in 3 stukken.
Hoeveel stukken krijg je?
- d Je hebt 3 vouwblaadjes.
Je knipt elk blaadje in 4 stukjes.
Hoeveel stukjes heb je?

10

Hoe laat is het?


11

Hoe laat is het?

12

Hoe laat is het nu?

En hoe laat is het over 10 minuten? Geef dus steeds 2 antwoorden!




13

Maak sommen met 2, 3 en 5.


De uitkomst moet in de ballonnen staan.

Voorbeelden:



14

Tel verder.



15

Sommen bedenken.

Bedenk 10 erbij-sommen waar 40 uitkomt.

16

Sommen bedenken.

Bedenk 10 eraf-sommen waar 9 uitkomt.