


1

## Hoeveel precies?

Welke getallen zijn dit?


Wijs ze ook aan op de getallenlijn.



$$1000 + 1 = 1001$$

duizend één

D	H	T	E
1	0	0	1



$$1000 + 10 = 1010$$

duizend tien

D	H	T	E
1	0	1	0



$$1000 + 100 = 1100$$


elfhonderd

D	H	T	E
1	1	0	0

2

## Maak nog meer getallen tussen 1000 en 2000.

Teken met D, H, T en E en maak daarbij een tabel.



$$1000 + 1000 = 2000$$

tweeduizend

D	H	T	E
2	0	0	0

1

## Hoeveel euro is het samen?


a



b



c



2

## Vul aan.

Vul aan tot 1000.

- a 100  
200  
400  
600

- b 750  
650  
350  
950

Vul aan tot 2000.

- c 1240  
1110  
1999  
1595

- d 350  
488  
1042  
160

3

## Reken uit.

- a  $4 \times 20 =$   
 $6 \times 20 =$   
 $8 \times 20 =$   
 $9 \times 20 =$

- b  $7 \times 20 =$   
 $7 \times 30 =$   
 $5 \times 20 =$   
 $5 \times 30 =$

- c  $5 \times 50 =$   
 $7 \times 50 =$   
 $9 \times 50 =$   
 $11 \times 50 =$

- d  $6 \times 150 =$   
 $12 \times 50 =$   
 $12 \times 40 =$   
 $12 \times 60 =$

4

## Welk getal staat er onder het vraagteken?


a




b



c



d



5

## Maak de rijen af.

a



b



c




d



## 1 Hoeveel precies?

Welke getallen zijn dit?

Wijs ze ook aan op de getallenlijn. Samen bespreken.



$$1000 + 1 = 1001$$

duizend één

D	H	T	E
1	0	0	1



$$1000 + 10 = 1010$$

duizend tien

D	H	T	E
1	0	1	0



$$1000 + 100 = 1100$$

elfhonderd

D	H	T	E
1	1	0	0



## 2 Maak nog meer getallen tussen 1000 en 2000. Meer antwoorden.

Teken met D, H, T en E en maak daarbij een tabel.



$$1000 + 1000 = 2000$$

tweeduizend

D	H	T	E
2	0	0	0

## 1 Hoeveel euro is het samen?

a € 1800



b € 1760



c € 1312



## 2 Vul aan.

Vul aan tot 1000.

a 100 900  
200 800  
400 600  
600 400

b 750 250  
650 350  
350 650  
950 50

Vul aan tot 2000.

c 1240 760  
1110 890  
1999 1  
1595 405

1 350 1650  
488 1512  
1042 958  
160 1840

## 3 Reken uit.

a  $4 \times 20 = 80$   
 $6 \times 20 = 120$   
 $8 \times 20 = 160$   
 $9 \times 20 = 180$

b  $7 \times 20 = 140$   
 $7 \times 30 = 210$   
 $5 \times 20 = 100$   
 $5 \times 30 = 150$

c  $5 \times 50 = 250$   
 $7 \times 50 = 350$   
 $9 \times 50 = 450$   
 $11 \times 50 = 550$

1  $6 \times 150 = 900$   
 $12 \times 50 = 600$   
 $12 \times 40 = 480$   
 $12 \times 60 = 720$

## 4 Welk getal staat er onder het vraagteken?

a 700




b 140



c 0



d 945



## 5 Maak de rijen af.

a 10 20 40 80 160 320

b 30 60 120 240 480 960

c 35 70 140 280 560 1020

d 60 120 240 480 960 1920