

1 Reken uit.

a $20 : 4 =$
 $200 : 4 =$
 $200 : 40 =$

b $45 : 5 =$
 $450 : 5 =$
 $450 : 50 =$

c $49 : 7 =$
 $490 : 7 =$
 $490 : 70 =$

d $568 : 8 =$
 $637 : 7 =$
 $576 : \dots = 72$

2 Wissel het geld.

	bedrag	€ 50	€ 100	€ 200	€ 250	€ 150	€ 500
a	€ 50	1
b	€ 5
	bedrag	€ 1	€ 5	€ 10	€ 8	€ 9	€ 15
c	€ 0,50
d	€ 0,20

3 Hoeveel tegels?

Gebruik je liniaal.


- a Hoeveel groene tegels passen in de strook?



- b Hoeveel gele tegels passen in de strook?



- c Hoeveel rode tegels passen in de strook?



- d Hoeveel blauwe tegels passen in de strook?



4

Maak de getallen 2 keer zo klein.

Hoe kun je het antwoord controleren?

a 100
120
150
136

b 108
270
340
410

c 540
722
504
192

d 916
878
1104
994

5

Reken om.

a $135 \text{ cm} = 1 \text{ m} + 3 \text{ dm} + 5 \text{ cm}$
 $226 \text{ cm} = \dots \text{ m} + \dots \text{ dm} + \dots \text{ cm}$
 $84 \text{ cm} = \dots \text{ dm} + \dots \text{ cm}$
 $50 \text{ cm} = \dots \text{ dm} + 0 \text{ cm}$

b $107 \text{ cm} = \dots \text{ m} + \dots \text{ dm} + \dots \text{ cm}$
 $75 \text{ cm} = \dots \text{ dm} + \dots \text{ cm}$
 $356 \text{ cm} = \dots \text{ m} + \dots \text{ dm} + \dots \text{ cm}$
 $400 \text{ cm} = \dots \text{ m} + \dots \text{ dm} + \dots \text{ cm}$

c $2 \text{ m} + 3 \text{ dm} + 4 \text{ cm} = \dots \text{ cm}$
 $4 \text{ m} + 0 \text{ dm} + 1 \text{ cm} = \dots \text{ cm}$
 $6 \text{ m} + 0 \text{ dm} + 0 \text{ cm} = \dots \text{ cm}$
 $8 \text{ dm} + 2 \text{ cm} = \dots \text{ cm}$

d $3 \text{ m} = \dots \text{ cm}$
 $4 \text{ m} = \dots \text{ dm}$
 anderhalve m = $\dots \text{ cm}$
 een halve dm = $\dots \text{ cm}$

6

Reken de sommen handig uit.

a $1 + 2 + 3 + 4 + 5 + 6 + 7 + 8 + 9 + 10 =$
 b $3 + 6 + 9 + 12 + 15 + 18 =$

c $7 + 12 + 17 + 22 + 27 + 32 =$
 d $9 + 19 + 29 + 39 + 49 + 59 + 69 =$

7

Wat kosten de tegelvloertjes?


Figuur 1: een witte tegel kost € 1,00 en een roze € 1,50.

Figuur 2: een witte tegel kost € 1,00 en een roze € 1,50.

Figuur 3: een blauwe tegel kost € 1,00 en een witte € 0,80.

Figuur 4: een witte tegel kost € 0,50 en een groene € 0,60.

Pas op, er is 1 tegel verkeerd gelegd!



8

Bedenk zelf sommen.

Reken het voorbeeld uit en maak dan zelf sommen.

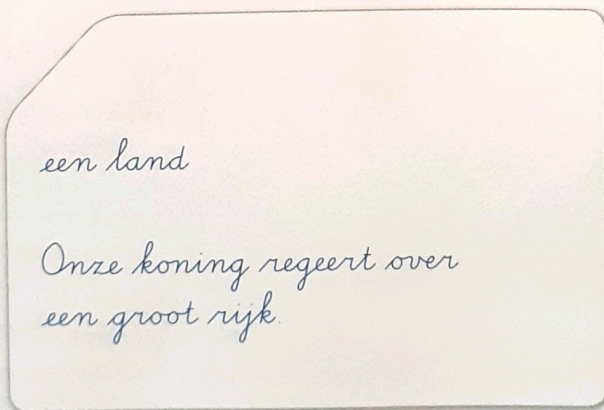
Mijn hondje heet Ricky.
 Ricky en ik wegen 32 kg.
 Ik weeg 28 kg.
 Hoe zwaar is Ricky?



les 15

- ★ 1 a Kijk naar je toets. Zoek de woorden die je fout had. Zet er een kruisje voor.
- b Maak van elk woord een woordkaart. Schrijf het woord op de voorkant. Schrijf de betekenis en een voorbeeldzin op de achterkant. Of maak een tekening van het woord. Je mag de woorden opzoeken.

Doe het zo:

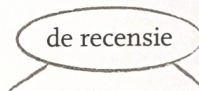


Dit heb je geleerd


Je oefent nog een keer met de woorden uit de toets.

Weet je nog?

- | | |
|-----------------------|---------------|
| de collectie | kritisch zijn |
| een drukte van belang | marcheren |
| enigszins | het rijk |
| de kwantiteit | de smaak |
| in zeer goede staat | vrijwel |



het informatiemateriaal



- 2 Onder elk **gekleurd** woord staan drie betekenissen. Eén is er goed. Schrijf de letter op die bij het goede antwoord hoort.

Je hebt nu een woord, dat past in deze zin: Iets wat jij mooi of belangrijk vindt, is je ...

Doe het zo: *het reukorgaan - s*

het reukorgaan

het rijk

kritisch zijn

de collectie

een drukte van belang

a het orgel

e veel geld

e niet opletten

k geld inzamelen

f iets belangrijks

s de neus

k de stad

a goed letten op

a de verzameling

e heel rustig

k de snavel

m het land

de kwaliteit

j het koekje

k heel druk

c rijk zijn

3

Kom naar pretpark Waterwereld!

Lees wat onze klanten over ons zeggen:

Leila (10 jaar):

'In Waterwereld zijn vier zwembaden, zes bubbelbaden en twaalf glijbanen. Eén van die glijbanen is de hoogste van Nederland. Dus is Waterwereld het vetste pretpark!'

Tim (9 jaar):

Waterwereld is megacool'

Yuri (8 jaar):

'Je kunt er zwemmen, duiken, snorkelen, van de glijbaan glijden, en nog veel meer.'

- a Drie kinderen vertellen dat Waterwereld leuk is. Eén geeft argumenten, één geeft een oordeel, één geeft argumenten en een oordeel. Wie doet wat?

Doe het zo: *Tim geeft een oordeel.*

- b Wat voor informatiemateriaal is dit: een folder of een catalogus?

- c Staat er ook een recensie van het pretpark? Waarom wel, of waarom niet?



- a Lees de woorden van de instapkaart nog eens. Ken je ze nu allemaal goed? Kies uit: ja – een beetje – nee
- b Schrijf de woorden die je moeilijk vindt nog eens op.



1. Oom Paco koopt een doos sigaren.
In de doos zitten 25 sigaren.
Hij rookt elke dag 3 sigaren.
Hoeveel sigaren zitten er na een week nog in de doos?



2. In de spaarpot van Marloes zitten 16 kwartjes.
Ze gaat de kwartjes ruilen voor guldens.
Hoeveel guldens krijgt Marloes?

3. Mijn zusje is 2 jaar en 8 maanden oud.
Hoeveel maanden is mijn zusje?

4. Het is nog vroeg in de morgen.
Op het strand van Porto Marie liggen 13 mensen.
Ze hebben allemaal 5 gulden voor een ligstoel betaald.
Hoeveel is dat samen?



5. In onze tuin staat een boom vol lamunchi's.
Mijn vader plukt er 38. Hij stopt ze in 7 zakjes.
In elk zakje komen evenveel lamunchi's.
Hoeveel lamunchi's houdt hij over?

6. Onze hond Bello is 4 jaar oud.
We hebben ook een kat en die is 1 jaar jonger dan Bello.
Onze hamster Slaapkop is 2 jaar jonger dan de kat.
Hoe oud zijn deze 3 dieren samen?



7. We zijn gisteren naar de Sint Jorisbaai geweest.
Om 11.45 uur waren we daar.
Om 15.15 uur gingen we weer naar huis.
Hoe lang zijn we bij de Sint Jorisbaai geweest?



8. De slaapkamer van Melanie is 4 meter lang.
Hij is 3 meter breed.
Wat is de omtrek van de slaapkamer van Melanie?
9. Een plank is 2 meter lang.
Mijn vader zaagt de plank in gelijke stukken van 30 cm.
Hoe lang is het stuk hout wat hij over houdt?



10. Een draakje heeft aan elke hand 4 vingers.
Hoeveel vingers hebben 5 van deze draken samen?