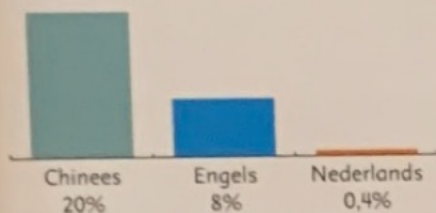


1 Bekijk de grafieken.

200 op de 1000 mensen hebben Chinees als moedertaal.


- a Hoeveel op de 1000 hebben Engels als moedertaal?
 b Hoeveel op de 1000 hebben Nederlands als moedertaal?
 c Er zijn op de wereld 6 miljard mensen. Hoeveel daarvan spreken Chinees? Hoeveel Nederlands?




Percentages mensen die Chinees, Engels of Nederlands als moedertaal hebben.

2 Welke breuk ligt het dichtst bij het percentage?

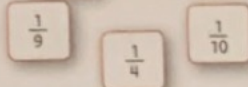
a 20% Kies uit:




b 2% Kies uit:




c 9% Kies uit:




d 19% Kies uit:




e 74% Kies uit:




f 49% Kies uit:



g 88% Kies uit:



h 14,1% Kies uit:



3 Welke voertuigen kunnen door de tunnel?

Er willen 3 voertuigen door de tunnel rijden.

Een personenauto, hoogte 1,72 m.

Een kampeerauto, hoogte 3,18 m.

Een dubbeldekker touringcar, hoogte 3,96 m.



Maximale doorrijhoogte 2,2 m.

- a De maximale hoogte is 2 meter en ... centimeter.
 b Welke voertuigen kunnen door de tunnel?
 c Hoeveel centimeter is de kampeerauto te hoog?
 d Hoeveel meter en centimeter is de dubbeldekker te hoog?

4 Reken uit.

- a
 $€ 3,00 + € 1,25 =$
 $€ 5,50 + € 1,50 =$
 $€ 1,40 + € 3,10 =$
 $€ 6,99 + € 3,01 =$

- b
 $2,1 \text{ m} + 0,40 \text{ m} = \dots \text{ m}$
 $1,2 \text{ m} + 0,35 \text{ m} = \dots \text{ m}$
 $6,45 \text{ m} + 1,5 \text{ m} = \dots \text{ m}$
 $0,65 \text{ m} + 0,35 \text{ m} = \dots \text{ m}$

- c
 $45 \text{ cm} + 0,05 \text{ m} = \dots \text{ m}$
 $1,05 \text{ m} + 5 \text{ cm} = \dots \text{ m}$
 $8 \text{ cm} + 1,8 \text{ m} = \dots \text{ m}$
 $5 \text{ dm} + 5 \text{ cm} = \dots \text{ m}$