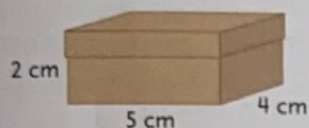
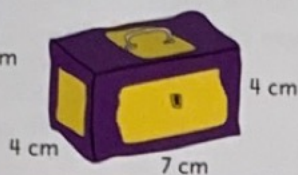


1 Wat is de inhoud in cm^3 ?

a




b



c

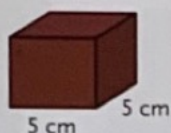


d



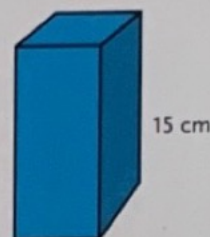
2 Reken uit.

a Inhoud 100 cm^3

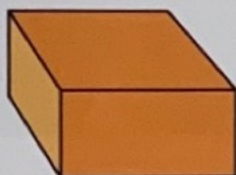


Hoe hoog is deze doos?

b Inhoud 180 cm^3
Hoe lang en hoe breed
kan deze doos zijn?



c Inhoud 480 cm^3



Wat kunnen de afmetingen van deze doos
zijn?

d Inhoud $22 \frac{1}{2} \text{ cm}^3$



Wat kunnen de afmetingen van dit doosje
zijn?

3 Welke schepen kunnen de haven invaren?

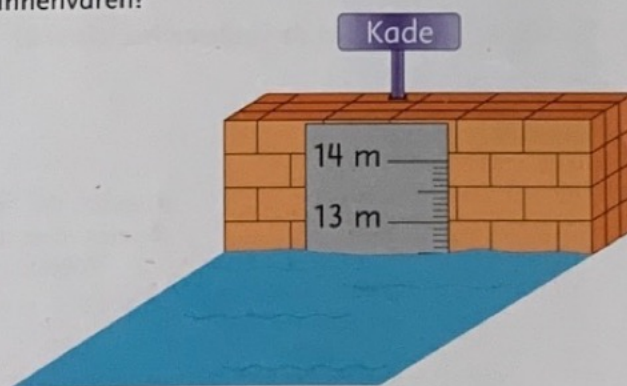
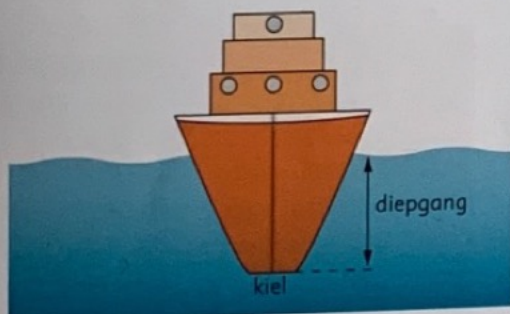
Er willen 3 schepen de haven invaren.

Toka Maru, diepgang 12,05 m

Karekiet, diepgang 1,25 m

Freedom, diepgang 15,20 m

- a De diepte van de haven is 12 meter en ... centimeter.
b Welke schepen kunnen de haven in?
c De Toka Maru heeft nog ... centimeter water onder de kiel.
d Hoeveel meter en centimeter moet de haven ten minste
worden uitgebaggerd, zodat ook het grootste schip kan
binnenvaren?



4 Welk getal ligt er precies tussenin?

a

tussen 1 en 3
tussen 1 en 2
tussen 0,1 en 0,3

b


tussen 2 en 2,6
tussen 4 en 4,8
tussen 6 en 6,2

c

tussen 1 en 1,1
tussen 4,2 en 4,3
tussen 6,9 en 7


- 1 Tot waar is de maatbeker gevuld?
Zet een streep.

a




0,3 l

b




700 ml

c




5 dl

d

0,75 dm³

e

350 cm³

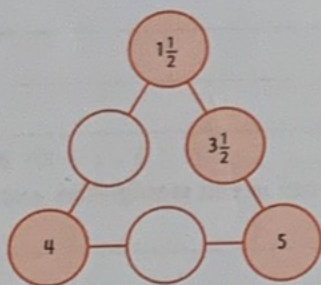
- 2 Vul de tabel in.

	liter	dl	cl	ml	dm ³	cm ³
a	1					
b	1,5					
c	0,7					
d	5,53					
e	12,33					
f	100,01					

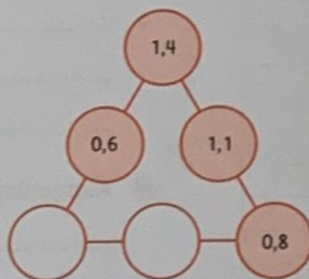
- 3 Vul in.

Aan elke kant moet evenveel.

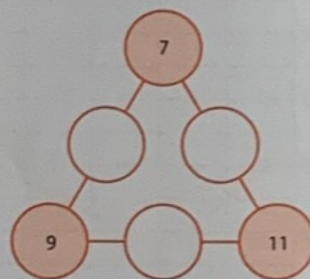
a



b



c



- 4 Vul de goede woorden in.

- a Sem kijkt op de _____ om te weten wanneer de zomervakantie begint.
 b Een jaar heeft 4 _____
 c Er zijn 7 _____ met 31 dagen.
 d De tijd op een klok met wijzers heet de _____ tijd.
 e De tijd op een klok met alleen cijfers heet de _____ tijd.