


1

Tot waar is de maatbeker gevuld?


Zet een streep.

a




0,3 l

b




700 ml

c




5 dl

d

0,75 dm<sup>3</sup>

e

350 cm<sup>3</sup>

2

Vul de tabel in.

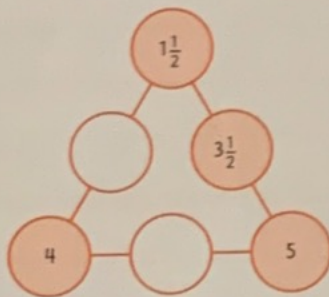
	liter	dl	cl	ml	dm <sup>3</sup>	cm <sup>3</sup>
a	1					
b	1,5					
c	0,7					
d	5,53					
e	12,33					
f	100,01					

3

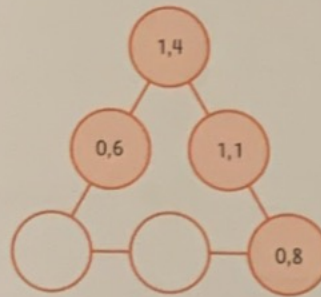
Vul in.

Aan elke kant moet evenveel.

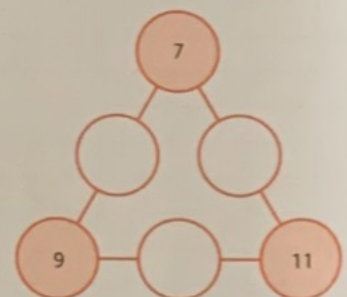
a



b



c



4




Vul de goede woorden in.

- a Sem kijkt op de \_\_\_\_\_ om te weten wanneer de zomervakantie begint.
- b Een jaar heeft 4 \_\_\_\_\_
- c Er zijn 7 \_\_\_\_\_ met 31 dagen.
- d De tijd op een klok met wijzers heet de \_\_\_\_\_ tijd.
- e De tijd op een klok met alleen cijfers heet de \_\_\_\_\_ tijd.

1

Bereken de inhoud.

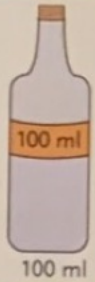
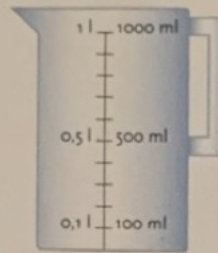
a Hoe gaat het verder?

1 cm<sup>3</sup>... cm<sup>3</sup>... cm<sup>3</sup>... cm<sup>3</sup>b Hoeveel blokjes van 1 cm<sup>3</sup> passen in deze dozen?

2

Ken je deze inhoudsmaten?


1 ml = 1 cm<sup>3</sup>  
 100 ml = 100 cm<sup>3</sup> = 1 dl = 0,1 l  
 500 ml = 500 cm<sup>3</sup> = 5 dl = 0,5 l  
 1000 ml = 1000 cm<sup>3</sup> = 1 dm<sup>3</sup> = 10 dl = 1 l



100 ml



30 ml



10 ml



5 ml



75 ml

1 ml is ongeveer  
20 druppels

3

Reken om.

a

1000 cm<sup>3</sup> = ... l  
 500 cm<sup>3</sup> = ... l  
 100 cm<sup>3</sup> = ... l  
 1 cm<sup>3</sup> = ... l

b

10 dl = ... l  
 12 dl = ... l  
 3 dl = ... l  
 2,5 dl = ... l

c

100 cl = ... l  
 735 cl = ... l  
 35 cl = ... l  
 6 cl = ... l

d

1000 ml = ... l  
 200 ml = ... l  
 50 ml = ... l  
 15 ml = ... l

4

Hoeveel water is het?

28% van ons water wordt gebruikt bij het doorspoelen van het toilet.  
 In een stortbak gaat gemiddeld 10 liter water.

