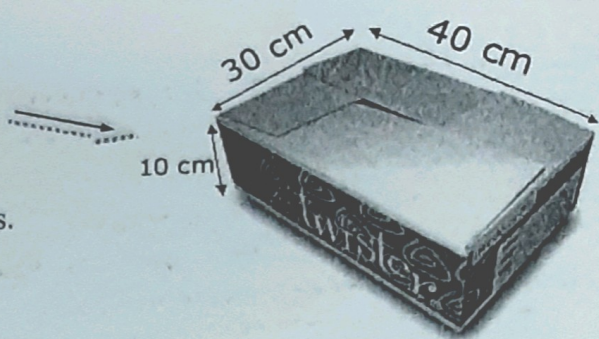


1. Kimberly heeft dit postpakket gekregen.
Bereken de inhoud van dit postpakket.




2. Tamara verdeelt haar verzameling postzegels.
Ze houdt zelf 25%. Marieke krijgt $\frac{1}{2}$ deel.
Karin krijgt de rest. Dat zijn er 55.
Hoeveel postzegels had Tamara eerst?



3. Bij Salas Sport staat een bak met tennisballen.
De bak is voor 60 % gevuld.
Wanneer er nog 80 tennisballen bijkomen is de bak vol.
Hoeveel tennisballen kunnen er in de bak?

4. Een ijsmachine vult bakken met slagroomijs.
Een bak heeft een inhoud van 8 liter.
De ijsmachine vult zo'n bak in 2 minuten.
Hoeveel liter slagroomijs zit er na 30 sec. in een bak?

5. Er is een wedstrijd voor mountainbikes bij landhuis Savonet.
Er zijn in totaal 8 controleposten. (start en finish inbegrepen)
Daar krijgen de deelnemers een stempel op een kaart.
Tussen elke controlepost ligt een afstand van 6,3 km.
Hoeveel km leggen de renners af?




6. Een koelbox is aan de binnenkant 40 cm lang en 3 dm breed.
De koelbox is 0.2 m hoog.
Hoeveel liter water kan er in de koelbox?

7. Suremie heeft een kan met 1,8 liter juice.
Ze verdeelt de juice over cups met een inhoud van 20 cl.
Hoeveel cups kan ze vullen?

8. De familie Hooftman gaat op vakantie naar Koeloembakoe.
Ze vertrekken om 17.52 uur van Hato. De reis duurt $7\frac{1}{2}$ uur.
Hoe laat komen ze daar aan?



9. Een kauwgumbal kost f. 0,25.
Die zitten in een automaat.
De winkelier haalt er vandaag f. 10,50 uit.
Hoeveel kauwgumballen zijn er vandaag verkocht?



10. Op een vlucht naar Amsterdam zit Frits tussen twee mensen in.
De mevrouw bij het raam weegt 84 kilo.
De meneer bij het gangpad is 15 % zwaarder.
Wat wegen die twee mensen samen?

