



les 16

★ 1 Deze beeldhouwkunst vind je gewoon op straat. Kijk naar de plaatjes en geef antwoord op de vragen. Schrijf hoofdletters op de goede plaats.

1 Wie maakte het beeld van Rembrandt?

Doe het zo: 1 *Louis Royer*

2 Het beeld *De denker* is heel beroemd. Van wie is het?

3 In Rotterdam staat *De verwoeste stad*. Wie is de beeldhouwer?

4 De maker van *Paard* maakt ook grote olifanten en konijnen. Hoe heet die kunstenaar?

5 Wie maakte koningin Wilhelmina zo stoer?

Dit heb je geleerd

Je hebt geleerd dat er nog meer **eigennamen** zijn dan eigennamen van mensen.

Je hebt geleerd dat je die eigennamen ook met een hoofdletter schrijft.

Weet je nog?

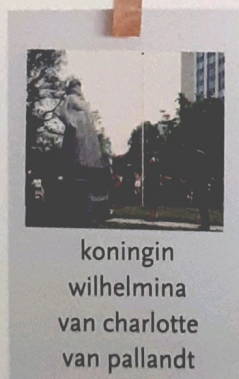

**Eigennamen** zijn namen van mensen (voornaam en achternaam), dieren of dingen.

Namen van landen, provincies, steden, dorpen, straten en rivieren zijn ook eigennamen.

De eerste letter van een eigennaam is een **hoofdletter**.



Hamza is geboren in Utrecht.



- ★ 2 In deze zaal vind je schilderkunst. Maar de bijschriften zijn enigszins fout. Schrijf de eigennamen op de goede manier.

Doe het zo: 1 *Jan Vermeer, Delft*



1 jan vermeer:  
gezicht op delft



2 isaac isaëls:  
scheveningen



3 jan van goyen:  
gezicht op dordrecht



4 jacob van ruysdael:  
de molen van  
wijk bij duurstede

- ★★ 3 Lees het verhaal. Zoek de eigennamen. Schrijf ze op met een hoofdletter.

- 1 In de belgische hoofdstad brussel staat een beroemd beeldje.

Doe het zo: 1 *Belgische, Brussel*

- 2 Het plassende jongetje heet manneken pis.  
3 Het werd in 1619 gemaakt door hiëronymus duquesnoy.  
4 Het brusselse beeldje heeft een eigen garderobe.  
5 Die kleertjes vind je in het museum aan de grote markt.  
6 Het mannetje is het bestgeklede beeldje van europa!
- 4 Jij bent vast wel eens in een andere stad geweest. Wat heb je daar gezien? Schrijf vijf regels over je bezoek. Gebruik hoofdletters op de goede plaatsen.




Wat klopt voor jou?

Ik wil graag nog oefenen met:

- a eigennamen van mensen
- b eigennamen van dingen (zoals beelden)
- c aardrijkskundige namen

1 Hoeveel euro is het samen?



2 Vul aan.

Vul aan tot 1000.

- a 100                      b 750  
 200                      650  
 400                      350  
 600                      950


Vul aan tot 2000.

- c 1240                      d 350  
 1110                      488  
 1999                      1042  
 1595                      160

3 Reken uit.

- a  $4 \times 20 =$                       b  $7 \times 20 =$                       c  $5 \times 50 =$                       d  $6 \times 150 =$   
 $6 \times 20 =$                        $7 \times 30 =$                        $7 \times 50 =$                        $12 \times 50 =$   
 $8 \times 20 =$                        $5 \times 20 =$                        $9 \times 50 =$                        $12 \times 40 =$   
 $9 \times 20 =$                        $5 \times 30 =$                        $11 \times 50 =$                        $12 \times 60 =$

4 Welk getal staat er onder het vraagteken?



5 Maak de rijen af.

