




1 Wissel het geld.

		50	100	200	400	450	300	250	500	350	550
a	
b	
c	

2 Reken uit.

Let op de nullen.





- | | | | | | | | |
|---|--------------|---|--------------|---|--------------|---|---------------|
| a | $18 : 2 =$ | b | $24 : 4 =$ | c | $81 : 9 =$ | d | $560 : 7 =$ |
| | $180 : 2 =$ | | $240 : 4 =$ | | $810 : 90 =$ | | $900 : 9 =$ |
| | $180 : 20 =$ | | $240 : 40 =$ | | $810 : 9 =$ | | $560 : 80 =$ |
| | $15 : 3 =$ | | $36 : 6 =$ | | $72 : 8 =$ | | $568 : 8 =$ |
| | $150 : 3 =$ | | $360 : 6 =$ | | $720 : 8 =$ | | $574 : 7 =$ |
| | $150 : 30 =$ | | $360 : 60 =$ | | $720 : 80 =$ | | $5740 : 70 =$ |

3 Hoeveel minuten zijn het?

seconden	60	120	240	300	600	180	420	360	480	660	720	540
minuten

4 Hoeveel tegels?

Denk aan de tafelsommen.

a		b		c		d	
---	---	---	---	---	--	---	---



1. Oom Paco koopt een doos sigaren.
In de doos zitten 25 sigaren.
Hij rookt elke dag 3 sigaren.
Hoeveel sigaren zitten er na een week nog in de doos?



2. In de spaarpot van Marloes zitten 16 kwartjes.
Ze gaat de kwartjes ruilen voor guldens.
Hoeveel guldens krijgt Marloes?

3. Mijn zusje is 2 jaar en 8 maanden oud.
Hoeveel maanden is mijn zusje?

4. Het is nog vroeg in de morgen.
Op het strand van Porto Marie liggen 13 mensen.
Ze hebben allemaal 5 gulden voor een ligstoel betaald.
Hoeveel is dat samen?



5. In onze tuin staat een boom vol lamunchi's.
Mijn vader plukt er 38. Hij stopt ze in 7 zakjes.
In elk zakje komen evenveel lamunchi's.
Hoeveel lamunchi's houdt hij over?

6. Onze hond Bello is 4 jaar oud.
We hebben ook een kat en die is 1 jaar jonger dan Bello.
Onze hamster Slaapkop is 2 jaar jonger dan de kat.
Hoe oud zijn deze 3 dieren samen?



7. We zijn gisteren naar de Sint Jorisbaai geweest.
Om 11.45 uur waren we daar.
Om 15.15 uur gingen we weer naar huis.
Hoe lang zijn we bij de Sint Jorisbaai geweest?



8. De slaapkamer van Melanie is 4 meter lang.
Hij is 3 meter breed.
Wat is de omtrek van de slaapkamer van Melanie?

9. Een plank is 2 meter lang.
Mijn vader zaagt de plank in gelijke stukken van 30 cm.
Hoe lang is het stuk hout wat hij over houdt?



10. Een draakje heeft aan elke hand 4 vingers.
Hoeveel vingers hebben 5 van deze draken samen?