


1 Bereken de inhoud.


a Hoe gaat het verder?



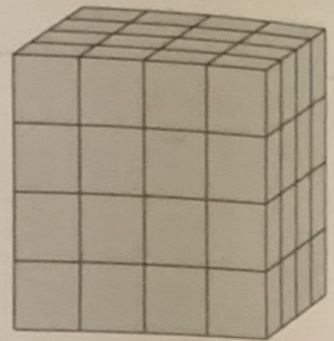
1 cm<sup>3</sup>



8 cm<sup>3</sup>



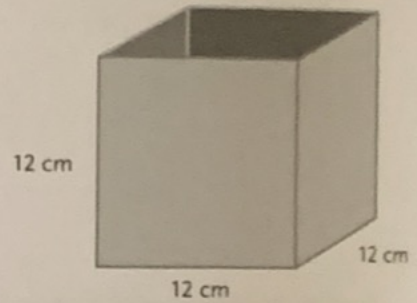
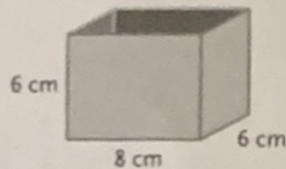
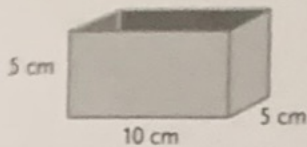
27 cm<sup>3</sup>



64 cm<sup>3</sup> 125 cm<sup>3</sup>, 216 cm<sup>3</sup>, enz


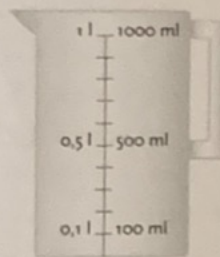
b Hoeveel blokjes van 1 cm<sup>3</sup> passen in deze dozen?

250 cm<sup>3</sup>; 288 cm<sup>3</sup>; 1728 cm<sup>3</sup>

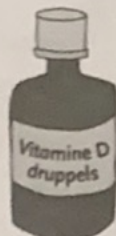


2 Ken je deze inhoudsmaten? Samen bespreken.

1 ml = 1 cm<sup>3</sup>  
 100 ml = 100 cm<sup>3</sup> = 1 dl = 0,1 l  
 500 ml = 500 cm<sup>3</sup> = 5 dl = 0,5 l  
 1000 ml = 1000 cm<sup>3</sup> = 1 dm<sup>3</sup> = 10 dl = 1 l



100 ml



30 ml



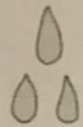
10 ml



5 ml



75 ml



1 ml is ongeveer 20 druppels

3 Reken om.

a

1000 cm<sup>3</sup> = 1 l  
 500 cm<sup>3</sup> = 0,5 l  
 100 cm<sup>3</sup> = 0,1 l  
 1 cm<sup>3</sup> = 0,001 l

b

10 dl = 1 l  
 12 dl = 1,2 l  
 3 dl = 0,3 l  
 2,5 dl = 0,25 l

c

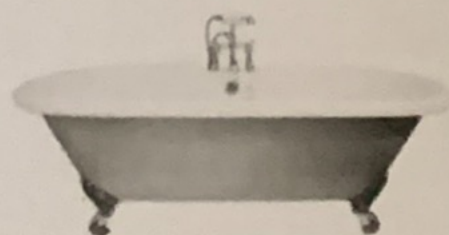
100 cl = 1 l  
 735 cl = 7,35 l  
 35 cl = 0,35 l  
 6 cl = 0,06 l

d






1000 ml = 1 l  
 200 ml = 0,2 l  
 50 ml = 0,05 l  
 15 ml = 0,015 l

4 Hoeveel water is het? Samen bespreken.

28% van ons water wordt gebruikt bij het doorspoelen van het toilet.  
 In een stortbak gaat gemiddeld 10 liter water.



1 Tot waar is de maatbeker gevuld?  
Zet een streep.

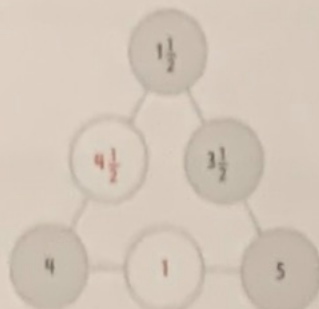
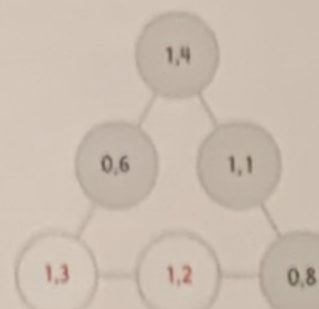
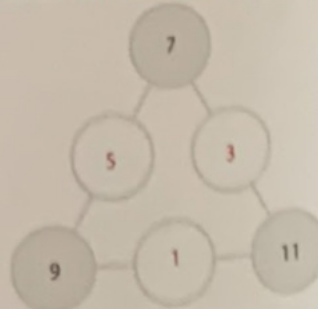
a  1 l  1 l  1 l  1 l  1 l

0,3 l      700 ml      5 dl      0,75 dm<sup>3</sup>      350 cm<sup>3</sup>

2 Vul de tabel in.

	liter	dl	cl	ml	dm <sup>3</sup>	cm <sup>3</sup>
a	1	10	100	1000	1	1000
b	1,5	15	150	1500	1,5	1500
c	0,7	7	70	700	0,7	700
d	5,53	55,3	553	5530	5,53	5530
e	12,33	123,3	1233	12 330	12,33	12 330
f	100,01	1000,1	10 001	100 010	100,01	100 010

3 Vul in.  
Aan elke kant moet evenveel.

a       b       c  **Meer antwoorden, bijvoorbeeld:**

4 Vul de goede woorden in.

- a Sem kijkt op de **kalender** \_\_\_\_\_ om te weten wanneer de zomervakantie begint.
- b Een jaar heeft 4 **kwartalen/seizoenen** \_\_\_\_\_
- c Er zijn 7 **maanden** \_\_\_\_\_ met 31 dagen.
- d De tijd op een klok met wijzers heet de **analoge** \_\_\_\_\_ tijd.
- e De tijd op een klok met alleen cijfers heet de **digitale** \_\_\_\_\_ tijd.