


1 Tot waar is de maatbeker gevuld?


Zet een streep.

a




0,3 l

b



700 ml

c




5 dl

d



0,75 dm³

e



350 cm³

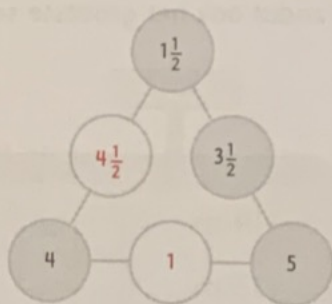
2 Vul de tabel in.

	liter	dl	cl	ml	dm ³	cm ³
a	1	10	100	1000	1	1000
b	1,5	15	150	1500	1,5	1500
c	0,7	7	70	700	0,7	700
d	5,53	55,3	553	5530	5,53	5530
e	12,33	123,3	1233	12 330	12,33	12 330
f	100,01	1000,1	10 001	100 010	100,01	100 010

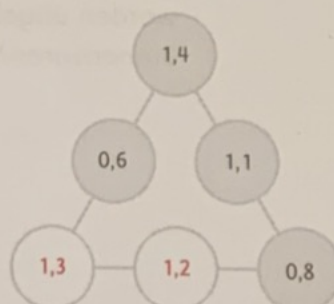
3 Vul in.

Aan elke kant moet evenveel.

a

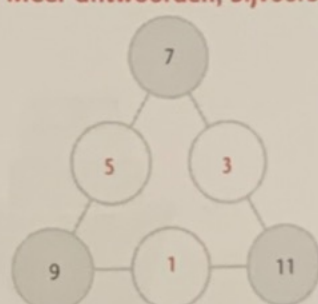


b



c

Meer antwoorden, bijvoorbeeld:



4 Vul de goede woorden in.

- a Sem kijkt op de **kalender** om te weten wanneer de zomervakantie begint.
- b Een jaar heeft 4 **kwartalen/seizoenen**.
- c Er zijn 7 **maanden** met 31 dagen.
- d De tijd op een klok met wijzers heet de **analoge** tijd.
- e De tijd op een klok met alleen cijfers heet de **digitale** tijd.