

1

Reken uit.  
Gebruik een kladdblaadje.

a

5	9	5	:	4	=	1	4	8	r	3
4	0	0	-	1	0	0	x			
1	9	5								
1	6	0	-	4	0	x				
3	5									
3	2	-		8	x					
3										

b

7	5	2	:	3	1	=	2	4	r	8
6	2	0	-	2	0	x				
1	3	2								
1	2	4	-	4	x					
8										

c


4	2	3	4	:	5	7	=	7	4	r	6
3	9	9	0	-	7	0	x				
2	4	4									
2	2	8	-	4	x						
1	6										

2

Maak een verhaaltje of een tekening bij de sommen en reken de sommen uit.  
Controleer met de rekenmachine.


a  $9 \times \text{€}1,75 = \text{€}15,75$

b  $388 + 472 = 860$



c  $100 - 3 \times \text{€}3,13 = \text{€}90,61$

d  $3 \times \text{€}1,75 + 3 \times \text{€}2,50 = \text{€}12,75$



1 Reken uit.

a

$$936 : 6 = 156$$

$$592 : 4 = 148$$

$$1072 : 8 = 134$$

$$1089 : 9 = 121$$

b

$$754 : 31 = 24 \text{ r } 10$$

$$621 : 27 = 23$$

$$970 : 34 = 28 \text{ r } 18$$

$$624 : 26 = 24$$

c

$$1636 : 36 = 45 \text{ r } 16$$

$$2249 : 44 = 51 \text{ r } 5$$

$$1024 : 26 = 39 \text{ r } 10$$

$$4269 : 57 = 74 \text{ r } 51$$


2 Reken uit.

- a Sharon verzamelt 328 stickers in een album. Ze plakt er 8 op een pagina. Hoeveel pagina's heeft zij hiervoor nodig? **41**
- b De muziekvereniging heeft € 2450 in kas. Zij kopen hiervoor nieuwe uniformen. Deze kosten € 75 per stuk. Hoeveel uniformen kunnen zij betalen? **32**  
Hoeveel geld houden zij over? **€ 50**
- c Een stuk grond van 6720 m<sup>2</sup> wordt voor het bouwen van huizen in 16 gelijke delen verdeeld. Hoe groot is elk stuk? **420 m<sup>2</sup>**

3 Hoeveel moet je betalen?

a	b	c	d
$3 \frac{1}{2}$ kg kost <b>€ 14</b>	$3 \frac{2}{3}$ kg kost <b>€ 11</b>	$7 \frac{1}{2}$ kg kost <b>€ 16,20</b>	$6 \frac{3}{4}$ kg kost <b>€ 29,16</b>

4 Hoe laat is het?



- a Dit klokje loopt precies 1 minuut voor. Wat is de juiste tijd? **14:49:34**
- b Dit klokje loopt een halve minuut achter. Wat is de juiste tijd? **16:49:27**
- c Dit klokje staat nog op wintertijd. Even veranderen. Wat is de juiste tijd? **10:04:15**

5 Reken uit.

a	b	c
10% van 400 = <b>40</b>	50% van 200 = <b>100</b>	10% van 136 = <b>13,6</b>
10% van 550 = <b>55</b>	20% van 250 = <b>50</b>	10% van 42,5 = <b>4,25</b>
20% van 300 = <b>60</b>	20% van 150 = <b>30</b>	5% van 300 = <b>15</b>
25% van 320 = <b>80</b>	1% van 550 = <b>5,5</b>	100% van 112 = <b>112</b>