


## 1 Wat geven we cadeau en hoeveel kost dat? Samen bespreken.

## Top 5 meest gegeven cadeaus

Nederlanders hebben vorig jaar gemiddeld ruim 227 euro aan cadeaus weggegeven. De gemiddelde prijs voor een cadeau was 18 euro. De gulle gevers kiezen het meest voor bloemen.



Samen geen 100%.  
Geven de anderen dan  
geen cadeaus?

1 op de 6 Nederlanders  
geeft het liefst bloemen als  
cadeau. Klopt dat?

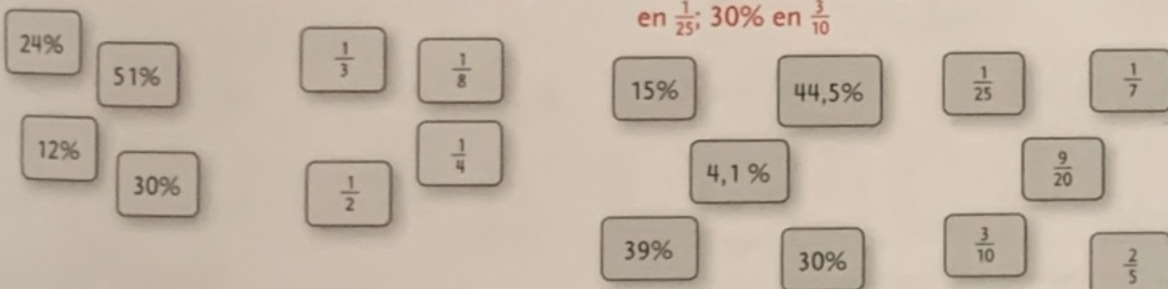
De Nederlander geeft zo  
gemiddeld elke maand  
een cadeau.



## 2 Welk percentage en welke breuk zijn ongeveer even groot?

a 24% en  $\frac{1}{4}$ ; 51% en  $\frac{1}{2}$ ; 12% en  $\frac{1}{8}$ ; 30% en  $\frac{1}{3}$

b 15% en  $\frac{1}{7}$ ; 44,5% en  $\frac{9}{20}$ ; 39% en  $\frac{2}{5}$ ; 4,1% en  $\frac{1}{25}$ ; 30% en  $\frac{3}{10}$



## 3 Welke groenten vinden de kinderen het lekkerst?

Meer dan tweederde van  
de kinderen vindt tomaten  
en broccoli erg lekker.

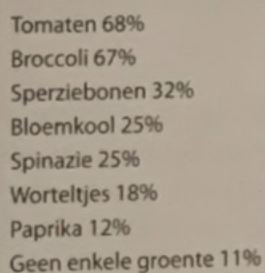
Hoe kan dat nou?  
Samen meer dan  
100%!

1 op de 10 kinderen  
lust geen enkele  
groente.

Naomi

Jesse

Britt



Maak zelf zo'n plaatje van je eigen groep. Samen bespreken.

1 Welke zijn evenveel waard?

Geef ze dezelfde kleur.


a

b

c

d

2 Kleur de grafiek in.



3 Vul in hoeveel je terugkrijgt.

	De prijs is:	Je moet betalen:	Je geeft:	Je krijgt terug:
a	€ 63,89	€ 63,90	€ 100	€ 36,10
b	€ 18,15	€ 18,15	€ 20	€ 1,85
c	€ 22,73	€ 22,75	€ 25	€ 2,25
d	€ 65,28	€ 65,30	€ 100	€ 34,70
e	5 × € 5,34	€ 26,70	€ 30	€ 3,30
f	3 × € 12,28	€ 36,85	€ 40	€ 3,15

4 Vul de goede woorden in.

- De tijdsduur is de tijd van begin tot eind van iets.
- Een uur heeft 4 kwartieren.
- Een minuut heeft 60 seconden.
- Bij schaatsen wordt de tijd gemeten in honderdsten van seconden.
- De snelheid van een auto wordt aemeten in km per uur.