

1 Reken uit.



- a 360 pakken wasmiddel worden verdeeld over 24 schappen. Hoeveel pakken komen er op elk schap? **15**
- b In een doos passen 28 pakjes margarine. Hoeveel dozen heb je nodig voor 700 pakjes? **25**
- c Er passen 12 kleurpotloden in een kleurdoos. Hoeveel kleurdozen kun je vullen met 1000 kleurpotloden? **83**
Hoeveel potloden houd je over? **4**
- d Groep 7 gaat een dag op excursie. Ieder betaalt € 16. De excursie kost voor de hele groep € 352. Groep 8 gaat kamperen. Ieder betaalt hiervoor € 21. Het schoolkamp kost voor de hele groep € 357. Hoeveel kinderen uit groep 7 gingen op excursie? **22 kinderen.**
Hoeveel kinderen uit groep 8 gingen op kamp? **17 kinderen.**

2 Welke schatting kies je?

Reken de schatting en de echte som uit.

a $345 : 23 = 15$

b $428 : 17 = 25 \text{ r } 3$

c $689 : 68 = 10 \text{ r } 9$

$300 : 20 = 15$

$400 : 20 = 20$

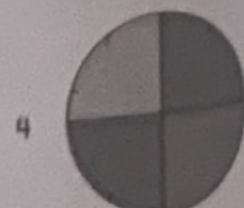







$700 : 70 = 10$

$340 : 20 = 17$

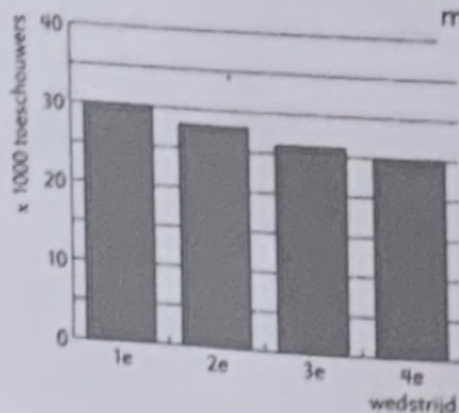
$450 : 15 = 30$

$660 : 60 = 11$

3 Welk staafdiagram en welk cirkeldiagram horen bij elkaar? **1 en C; 2 en D; 3 en B; 4 en A.**



4 Bekijk de grafiek.



Het aantal bezoekers is met meer dan 10% gedaald.



- a Hoeveel toeschouwers waren er bij de eerste en de vierde wedstrijd?
- b Klopt het wat de voorzitter zegt? **ja**
- c Er kunnen 50 000 mensen in het stadion. Welk percentage stoelen is bij de eerste wedstrijd bezet? $\frac{30}{50} = \frac{60}{100} = 60\%$
- d Is het stadion bij de tweede wedstrijd meer of minder dan halfvol? **Meer dan halfvol.**
a Eerste wedstrijd: 30 000; vierde wedstrijd: 23 000.

5 Tel handig op.

a

mayosaus	€ 0,99
limonade	€ 0,99
pastasaus	€ 0,99
satésaus	€ 2,49

TOTAAL:	€ 5,46

b

wijn	€ 3,99
appels	€ 1,98
eieren	€ 0,99
sla	€ 0,69
eieren	€ 0,99
chocomix	€ 1,99

TOTAAL:	€ 10,63

c

nasi goreng	€ 3,49
brie	€ 1,49
geraspte kaas	€ 0,99
wasverzachter	€ 3,99
koffiepads	€ 1,69
ontbijtkoek	€ 1,39
knakworst	€ 1,99
kwark	€ 1,39
tandpasta	€ 4,49

TOTAAL:	€ 20,91

6 Hoeveel kosten de artikelen ongeveer per stuk?

a

- 2 voor 99 c 50 c
- 2 voor 49 c 25 c
- 2 voor € 1,98 € 1
- 4 voor 99 c 25 c

b

- 2 voor € 2,99 € 1,50
- 2 voor € 4,49 € 2,25
- 2 voor € 1,49 75 c
- 6 voor € 1,79 30 c

c

- 6 voor 99 c 17 c
- 2 voor € 4,99 € 2,50
- 3 voor € 4,49 € 1,50
- 3 voor € 1,54 50 c

7 Hoeveel kost een deel van de taart?



a

- Hoeveel kost:
- een halve taart € 6
- een kwart taart € 3
- driekwart taart € 9

b

- Hoeveel kost:
- $\frac{1}{6}$ taart € 2
- $\frac{1}{8}$ taart € 1,50
- $\frac{1}{5}$ taart € 2,40

c

- Hoeveel kost:
- $\frac{5}{6}$ taart € 10
- $\frac{7}{8}$ taart € 10,50
- $\frac{7}{10}$ taart € 8,40

8 Welke tijden horen bij elkaar?

Het is bijna drie uur.

14.58

Het is even over half elf.

10.31

Het is bijna half zeven.

06.28

Het is precies tien voor half acht.

19.20

Het is even over vieren.

16.03

Het is precies kwart over negen.

21.15

Het is precies tien over twee.

02.10

Het is bijna kwart voor twaalf.

23.43

Kies uit deze tijden:

02.10

14.58

06.28

19.20

10.31

23.43

16.03

21.15