

1

Verdeel eerlijk over de tafels.

Hoeveel is er voor 1 tafel?


Wat is er over?



30 bolletjes
24 appels
20 pakjes appelsap
25 kuipjes boter
27 plakken beleg

$$30 = \dots \times 3$$

$$30 = 10 \times 3 \text{ Over: } 0$$



Voor 1 tafel zijn er:


10 bolletjes. Over 0

___ appels. Over: ___

___ pakjes appelsap. Over: ___

___ kuipjes boter. Over: ___

___ plakken beleg. Over: ___




2

Vul in.

5 appels op elk bord.

Er zijn 35 appels.

Hoeveel borden zijn er nodig? _____

	aantal borden	1	2	3				
	aantal appels	5	10					35

$$5 = 1 \times 5 \quad 10 = 2 \times 5$$

3

Hoeveel krijgt ieder?

Verdeel 30 knikkers.

a Over 5 kinderen. Elk kind krijgt _____ knikkers.

b Over 6 kinderen. Elk kind krijgt _____ knikkers.

c Over 3 kinderen. Elk kind krijgt _____ knikkers.

d Over 2 kinderen. Elk kind krijgt _____ knikkers.

