

1 Hoeveel stukjes rijdt de bus?  
Kies de kortste weg.





a van  naar 

b van  langs  naar 

c van  langs  naar 

d van  langs  langs  naar 

2 Waar kom je uit?  
Je loopt zo.

		start	stop
1 stukje noord	a		
1 stukje noord 1 stukje west	b		
1 stukje zuid 1 stukje oost	c		
2 stukjes zuid 1 stukje oost 2 stukjes noord 1 stukje west	d		

3 Hoe laat is het over een halfuur?

