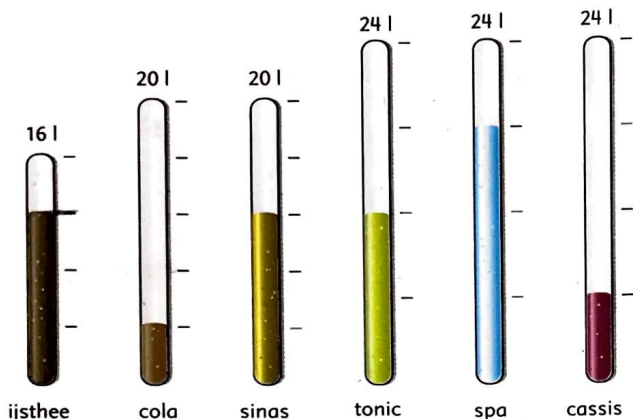


1 Vul de automaat bij.
Welk deel moet erbij? Hoeveel liter is dat?



frisdrank	er moet bij	dat is ... liter
ijsthee	$\frac{1}{4}$ deel	4 l
cola	$\frac{1}{5}$ deel	... l
sinas	$\frac{1}{4}$ deel	... l
tonic	$\frac{1}{3}$ deel	... l
spa	$\frac{1}{2}$ deel	... l
cassis	$\frac{1}{6}$ deel	... l


2 Vul de tank bij.
Welk deel moet erbij? Hoeveel liter is dat? Hoeveel is het samen?



gevuld deel	dat is ... liter	er komt bij	dat is ... liter	samen
$\frac{1}{5}$	6 liter	$\frac{4}{5}$ deel	24 liter	30 liter
$\frac{2}{5}$... liter	$\frac{3}{5}$ deel	... liter	... liter
$\frac{3}{5}$... liter	$\frac{2}{5}$ deel	... liter	... liter
$\frac{5}{6}$... liter	$\frac{1}{6}$ deel	... liter	... liter

3 Welk deel is opgedronken?
Hoeveel deciliter is dat? In elk pak zat 2 liter.

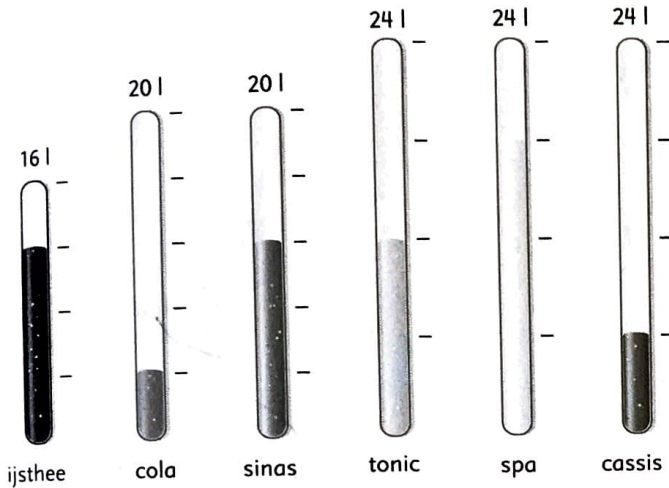
drank	welk deel is opgedronken?	hoeveel dl?
druivensap	$\frac{1}{2}$ deel	... dl
appelsap	$\frac{1}{3}$ deel	... dl
melk	$\frac{1}{4}$ deel	... dl
drinkyoghurt	$\frac{1}{5}$ deel	... dl



1 l = 10 dl

1 Vul de automaat bij.

Welk deel moet erbij? Hoeveel liter is dat?



frisdrank	er moet bij	dat is ... liter
ijssthee	$\frac{1}{4}$ deel	4 l
cola	$\frac{4}{5}$ deel	16 l
sinas	$\frac{2}{5}$ deel	8 l
tonic	$\frac{2}{4}$ deel	12 l
spa	$\frac{1}{4}$ deel	6 l
cassis	$\frac{3}{4}$ deel	18 l

2 Vul de tank bij.

Welk deel moet erbij? Hoeveel liter is dat? Hoeveel is het samen?




gevuld deel	dat is ... liter	er komt bij	dat is ... liter	samen
$\frac{1}{5}$	6 liter	$\frac{4}{5}$ deel	24 liter	30 liter
$\frac{2}{5}$	12 liter	$\frac{3}{5}$ deel	18 liter	30 liter
$\frac{3}{5}$	18 liter	$\frac{2}{5}$ deel	12 liter	30 liter
$\frac{5}{6}$	25 liter	$\frac{1}{6}$ deel	5 liter	30 liter

3 Welk deel is opgedronken?

Hoeveel deciliter is dat? In elk pak zat 2 liter.

drank	welk deel is opgedronken?	hoeveel dl?
druivensap	$\frac{1}{2}$ deel	10 dl
appelsap	$\frac{3}{4}$ deel	15 dl
melk	$\frac{7}{8}$ deel	17,5 dl
drinkyoghurt	$\frac{1}{4}$ deel	5 dl



1 l = 10 dl