

les 15 herhalen

1 Reken uit.

- a $20 : 4 = 5$ $200 : 4 = 50$ $200 : 40 = 5$
- b $345 : 5 = 69$ $450 : 5 = 90$ $450 : 50 = 9$
- c $49 : 7 = 7$ $490 : 7 = 70$ $490 : 70 = 7$
- d $568 : 8 = 71$ $637 : 7 = 91$ $576 : 8 = 72$


2 Wissel het geld.

| | | | | | | | |
|---|--------|------|-------|-------|-------|-------|-------|
| | bedrag | € 50 | € 100 | € 200 | € 250 | € 150 | € 500 |
| a | € 50 | 1 | 2 | 4 | 5 | 3 | 10 |
| b | € 5 | 10 | 20 | 40 | 50 | 30 | 100 |
| | bedrag | € 1 | € 5 | € 10 | € 8 | € 9 | € 15 |
| c | € 0,50 | 2 | 10 | 20 | 16 | 18 | 30 |
| d | € 0,20 | 5 | 25 | 50 | 40 | 45 | 75 |


3 Hoeveel tegels?

Gebruik je liniaal.


- a Hoeveel groene tegels passen in de strook? 10




- b Hoeveel gele tegels passen in de strook? 20



- c Hoeveel rode tegels passen in de strook? 6



- d Hoeveel blauwe tegels passen in de strook? 20



4 Maak de getallen 2 keer zo klein.
Hoe kun je het antwoord controleren?

- | | | | | | | | |
|---|--------------------------------------|---|---|---|---|---|---|
| a | 100 50 120 60 150 75 136 68 | b | 108 54 270 135 340 170 410 205 | c | 540 270 722 361 504 252 192 96 | d | 916 458 878 439 1104 552 994 497 |
|---|--------------------------------------|---|---|---|---|---|---|

5 Reken om.

- | | | | |
|---|---|---|---|
| a | 135 cm = 1 m + 3 dm + 5 cm 226 cm = 2 m + 2 dm + 6 cm 84 cm = 8 dm + 4 cm 50 cm = 5 dm + 0 cm | b | 107 cm = 1 m + 0 dm + 7 cm 75 cm = 7 dm + 5 cm 356 cm = 3 m + 5 dm + 6 cm 400 cm = 4 m + 0 dm + 0 cm |
| c | 2 m + 3 dm + 4 cm = 234 cm 4 m + 0 dm + 1 cm = 401 cm 6 m + 0 dm + 0 cm = 600 cm 8 dm + 2 cm = 82 cm | d | 3 m = 300 cm 4 m = 40 dm anderhalve m = 150 cm een halve dm = 5 cm |

6 Reken de sommen handig uit.

- | | | | |
|---|---|---|---|
| a | $1 + 2 + 3 + 4 + 5 + 6 + 7 + 8 + 9 + 10 = 55$ | c | $7 + 12 + 17 + 22 + 27 + 32 = 117$ |
| b | $3 + 6 + 9 + 12 + 15 + 18 = 63$ | d | $9 + 19 + 29 + 39 + 49 + 59 + 69 = 273$ |

7 Wat kosten de tegelvloertjes?

Figuur 1: een witte tegel kost € 1,00 en een roze € 1,50 € 11,00

Figuur 2: een witte tegel kost € 1,00 en roze € 1,50 € 11,50


Figuur 3: een blauwe tegel kost € 1,00,

en een witte tegel: € 0,80 € 22,40

Figuur 4: een witte tegel kost € 0,50,

en een groene tegel: € 0,60 € 26,80

Pas op, er is 1 tegel verkeerd gelegd!



8 Bedenk zelf sommen.

Reken het voorbeeld uit en maak dan zelf sommen. 4 kg

Mijn hondje heet Ricky.
Ricky en ik wegen 32 kg.
Ik weeg 28 kg.
Hoe zwaar is Ricky?



les 12

★ 1 Los de rebussen op. Schrijf ook het meervoud op.

Kies uit: huis muis neus reus poes buis



d = h
f = s

huis
huizen



d = n
r = s

neus
neuzen




h = b

buis
buizen



h = p
d = s

poes
poezen



l = s

muis
muizen



n = r

reus
reuzen

- 2 Schrijf de **groene** woorden in het enkelvoud en het meervoud op.



De schilder gaat een gedekte tafel naschilderen. Hij zet alles klaar. In het midden van de tafel een gebraden **gans** waarin een groot **mes** steekt. Daar omheen **glazen** wijn en stukken **kaas**. Links een schaal met bouten van een **haas**, een **fles** olie en een **doos** bonbons. Rechts een **vaas** met witte en rode **rozen** en een schaal **kersen**. Achter de gans staat een kandelaar met een **kaars**. Hopelijk krijgt de schilder tijdens het schilderen geen honger!

de bout

Een stuk vlees van een dier aan een botje, om op te eten.



enkelvoud

meervoud

gans

ganzen

mes

messen

glas

glazen

kaas

kazen

haas

hazen

fles

flessen

doos

dozen

vaas

vazen

roos

rozen

kers

kersen

kaars

kaarsen

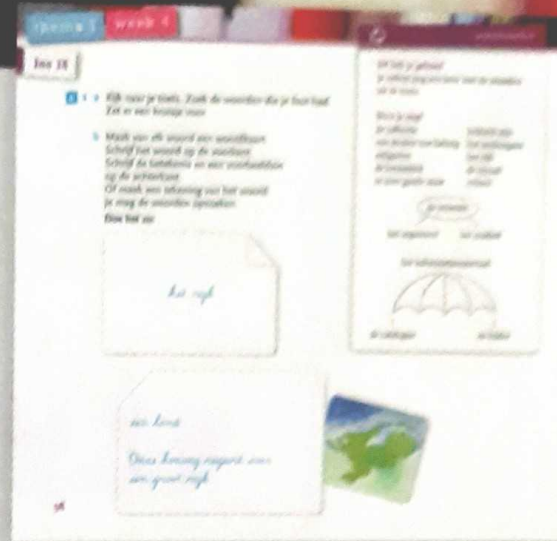
- 3 Schrijf de woorden op.

- Ik *blas* _____ op een trompet, want op een trompet moet je *blazen* _____ om er geluid uit te krijgen.
- Ik *lees* _____ een boek, want een boek moet je *lezen* _____ om het verhaal te begrijpen.
- Ik *was* _____ mijn handen, want handen moet je *wassen* _____ om ze schoon te krijgen.
- Ik snuit mijn *neus* _____, want alleen *neuzen* _____ kun je snuiten.



Het is: glas – glazen,
maar plas – plassen.
Het is: roos – rozen,
maar vos – vossen.

- Dat gaat bij mij vanzelf goed.
- Daar maak ik nog wel fouten mee.
- Dat vind ik heel moeilijk.



- 2** het reukorgaan – s
 het rijk – m
 kritisch zijn – a
 de collectie – a
 een drukte van belang – k
 woord: smaak

- 3 a** Tim geeft een oordeel.
 Yuri geeft argumenten.
 Leila geeft argumenten en een oordeel.

b een folder

