

1

Hoeveel appels zijn het?

Vul de tabel in.

a


kisten	1	2	4	40	400
zakken	10	20	40	400	4000
kg	100	200	400	4000	40 000

b Hoeveel zakken zijn er nodig voor 60 000 kg appels? 6000 zakken.

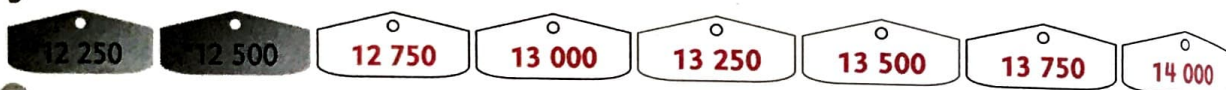
2

Tel verder.


a



b



c



3

Zet de getallen van klein naar groot.

a



b



c



4

Maak de sommen af.

Sommige cijfers zijn per ongeluk uitgeveegd.

a

$$\begin{array}{r} 3 \text{ 5 } 8 \\ 2 \text{ 3 } 1 + \\ \hline 9 \\ 80 \\ 500 \\ \hline 589 \end{array}$$

b

$$\begin{array}{r} 1517 \\ 1172 + \\ \hline 9 \\ 80 \\ 600 \\ \hline 2000 \\ 2689 \end{array}$$

c

$$\begin{array}{r} 348 \\ 524 + \\ \hline 12 \\ 60 \\ 800 \\ \hline 872 \end{array}$$

d

$$\begin{array}{r} 1436 \\ 2481 + \\ \hline 7 \\ 110 \\ 800 \\ 3000 \\ \hline 3917 \end{array}$$

e

$$\begin{array}{r} 3152 \\ 1219 + \\ \hline 11 \\ 60 \\ 300 \\ 4000 \\ \hline 4371 \end{array}$$

f

$$\begin{array}{r} 2888 \\ 1712 + \\ \hline 10 \\ 90 \\ 1500 \\ 3000 \\ \hline 4600 \end{array}$$