

1 Vul de tank bij.  
Welk deel moet erbij? Hoeveel liter is dat?

a

gevuld deel	dat is ... liter	er komt bij	dat is ... liter
$\frac{1}{2}$	... liter	÷ deel	... liter
$\frac{1}{4}$	... liter	÷ deel	... liter
$\frac{2}{4}$	... liter	÷ deel	... liter
$\frac{3}{4}$	... liter	÷ deel	... liter

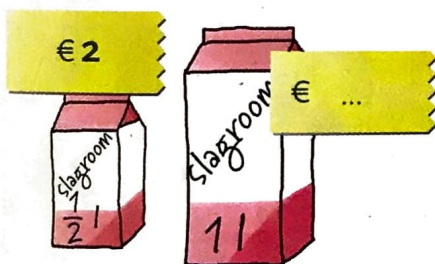


b Maak zo'n tabel voor een tank van 60 liter.

c Maak zo'n tabel voor een tank van 50 liter.

2 Reken uit hoeveel het kost.

a Hoeveel kost 1 l slagroom?



b Hoeveel kost 1 kg chocola?



c Hoeveel kost 1 m stof?



3 Bekijk de grafiek over sporten in Twello.

a Aan welke sport doen de meeste kinderen?

b Hoeveel kinderen zwemmen?

c Hoeveel kinderen zitten op turnen?

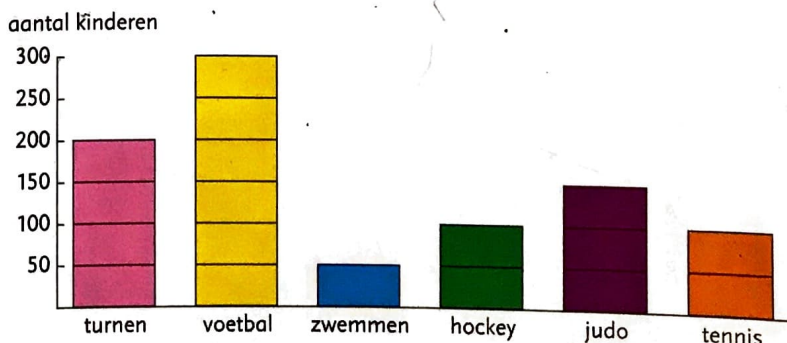
d Hoeveel kinderen zitten op judo?

e Op welke sporten zitten evenveel kinderen?

f Tussen welke 2 sporten is het verschil het grootst?

g Bo zegt: 'Er sporten dus 900 kinderen in Twello.' Heeft hij gelijk?

h Kies uit: meer dan de helft/minder dan de helft van de kinderen doet een balsport.






1 Vul de tank bij.  
Welk deel moet erbij? Hoeveel liter is dat?

a


gevuld deel	dat is ... liter	er komt bij	dat is ... liter
$\frac{1}{2}$	20 liter	$\frac{1}{2}$ deel	20 liter
$\frac{1}{4}$	10 liter	$\frac{3}{4}$ deel	30 liter
$\frac{2}{4}$	20 liter	$\frac{2}{4}$ deel	20 liter
$\frac{3}{4}$	30 liter	$\frac{1}{4}$ deel	10 liter



- b Maak zo'n tabel voor een tank van 60 liter.  $\frac{1}{2}$ , 30 l,  $\frac{1}{2}$ , 30 l;  $\frac{1}{4}$ , 15 l,  $\frac{3}{4}$ , 45 l;  $\frac{2}{4}$ , 30 l,  $\frac{2}{4}$ , 30 l;  $\frac{3}{4}$ , 45 l,  $\frac{1}{4}$ , 15 l.
- c Maak zo'n tabel voor een tank van 50 liter.  $\frac{1}{2}$ , 25 l,  $\frac{1}{2}$ , 25 l;  $\frac{1}{4}$ , 12,5 l,  $\frac{3}{4}$ , 37,5 l;  $\frac{2}{4}$ , 25 l,  $\frac{2}{4}$ , 25 l;  $\frac{3}{4}$ , 37,5 l,  $\frac{1}{4}$ , 12,5 l.

2 Reken uit hoeveel het kost.

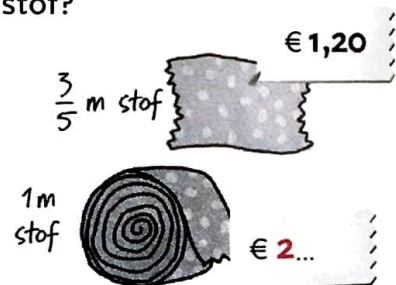
a Hoeveel kost 1 l slagroom?



b Hoeveel kost 1 kg chocola?

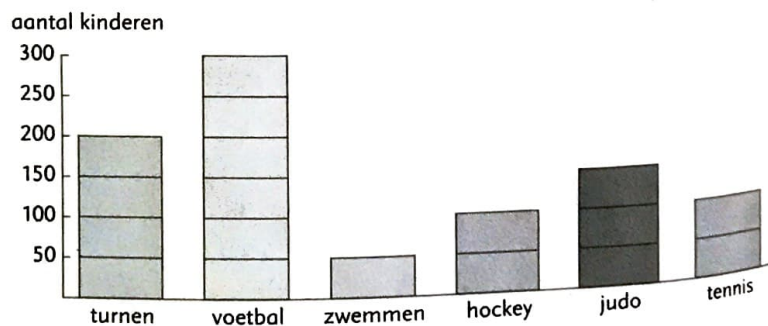


c Hoeveel kost 1 m stof?



3 Bekijk de grafiek over sporten in Twello.

- a Aan welke sport doen de meeste kinderen? **voetbal**
- b Hoeveel kinderen zwemmen? **50**
- c Hoeveel kinderen zitten op turnen? **200**
- d Hoeveel kinderen zitten op judo? **150**



- e Op welke sporten zitten evenveel kinderen? **hockey en tennis**
- f Tussen welke 2 sporten is het verschil het grootst? **zwemmen en voetbal**
- g Bo zegt: 'Er sporten dus 900 kinderen in Twello.' Heeft hij gelijk? **Dat kun je niet weten.**
- h Kies uit: meer dan de helft/minder dan de helft van de kinderen doet een balsport.