


5 Welke getallen staan er?
Gebruik je liniaal als het nodig is.



6 Hoeveel krijg je terug? Je geeft . Je krijgt geen munten van 1 en 2 cent terug.

- | | | | |
|-----------------|-----------------|-----------------|-----------------|
| a € 6,00 € 4,00 | b € 9,50 € 0,50 | c € 2,25 € 7,75 | d € 9,98 € 0,00 |
| € 9,00 € 1,00 | € 7,75 € 2,25 | € 4,95 € 5,05 | € 9,97 € 0,05 |
| € 8,90 € 1,10 | € 3,50 € 6,50 | € 0,95 € 9,05 | € 0,55 € 9,45 |
| € 1,20 € 8,80 | € 1,25 € 8,75 | € 7,60 € 2,40 | € 4,09 € 5,90 |

7 Hoeveel kosten 10 stuks?
Gebruik het €-teken.

a € 2,50



25 cent

b € 3,50



35 cent

c € 4,50



45 cent

d Hoeveel per stuk?
€ 0,35



8 Reken uit.

- | | | | |
|---------------------|--------------------|----------------------|--------------------|
| a $123 + 456 = 579$ | b $200 - 56 = 144$ | c $3 \times 14 = 42$ | d $70 : 5 = 14$ |
| $456 - 123 = 333$ | $13 \times 5 = 65$ | $52 : 4 = 13$ | $55 + 555 = 610$ |
| $5 \times 16 = 80$ | $200 : 4 = 50$ | $470 + 250 = 720$ | $907 - 197 = 710$ |
| $72 : 6 = 12$ | $263 + 138 = 401$ | $420 - 270 = 150$ | $6 \times 15 = 90$ |

9 Hoe laat is het?

a 4 uur



b half 4



c kwart over 10



0:15

d 9 minuten over half 1





les 9

Eerst proberen

- 1 *boeven* _____
- 2 *aantallen* _____
- 3 *durven* _____
- 4 *avontuur* _____
- 5 *drijven* _____
- 6 *intussen* _____
- 7 *daarna* _____
- 8 *hoeven* _____

Ik heb _____ fout.

- Ik begin bij 
- Ik begin bij 



Dit ga je leren

Je leert hoe je woorden schrijft
waarbij f verandert in v.

duiven



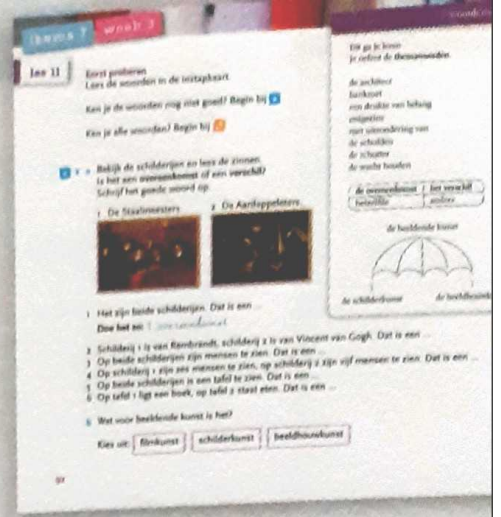
Dit moet je weten

duif

Het woord eindigt op f.

Maak je het woord langer,
dan verandert f in v.

duiven



- ★ 1 a 1 overeenkomst
2 verschil
3 overeenkomst
4 verschil
5 overeenkomst
6 verschil

b schilderkunst

- ★ 2 1 geweer
2 de schutter
3 de wacht houden
4 een drukte van belang
5 met uitzondering van
Het woord 'hamer' hoort er niet bij.

- 3 a 1 k
2 u
3 n
4 s
5 t

b kunst

- ★ 4