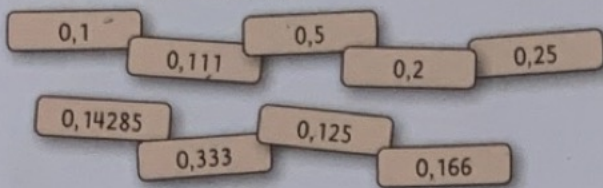



- 1 Welk kommagetal en welke breuk horen bij elkaar?
Gebruik je rekenmachine.



- 2 Maak van de breuk een kommagetal.
Gebruik je rekenmachine. Noteer alle cijfers.

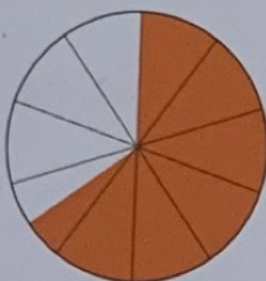


- 3 Beantwoord de vragen over de grafieken.

Vakantiegangers in 2008
Nederland



Spanje



met vakantie

- a Hoeveel procent van de Nederlanders ging in 2008 met vakantie?
b Hoeveel procent van de Spanjaarden ging in 2008 met vakantie?

Nederland heeft 16 miljoen inwoners.
Spanje heeft 46 miljoen inwoners.

- c Hoeveel Nederlanders gingen in 2008 met vakantie?
d Hoeveel Spanjaarden?
e Beantwoord dezelfde vragen voor de mensen die niet met vakantie gingen.

- 4 Maak er honderdsten van.
Welk kommagetal hoort erbij?

a

$\frac{1}{2}$	$\frac{50}{100}$	0,50
$\frac{1}{10}$
$\frac{1}{5}$
$\frac{1}{4}$

b

$\frac{1}{20}$	$\frac{5}{100}$	0,05
$\frac{3}{10}$
$\frac{2}{5}$
$\frac{4}{20}$

c

$\frac{3}{25}$	$\frac{12}{100}$...
$\frac{3}{5}$
$\frac{11}{50}$
$\frac{7}{25}$

5

Vul aan.

a tot 10

5,6	...
4,7	...
1,5	...
5,9	...

b tot 10

5,25	...
4,75	...
1,25	...
5,75	...

c tot 15

12,43	...
13,16	...
11,40	...
13,92	...

d tot 50

22,34	...
33,91	...
41,08	...
11,01	...

6

Reken onder elkaar uit.

Let op welk teken er staat. De sommen staan door elkaar.

a

$$814 + 93 =$$

$$831 - 71 =$$

$$4 \times 132 =$$

$$171 : 9 =$$

b

$$635 + 245 =$$

$$831 - 471 =$$

$$25 \times 43 =$$

$$231 : 7 =$$

c

$$194 + 337 =$$

$$604 - 352 =$$

$$26 \times 76 =$$

$$693 : 7 =$$

d

$$648 + 957 + 419 =$$


$$900 - 678 =$$

$$26 \times 176 =$$


$$299 : 13 =$$

7

Hoeveel kosten de terrassen?




b



a



c



d

