

**3****Maak de sommen.**

a  $3 \times 10 =$

$3 \times 12 =$

$3 \times 14 =$

$3 \times 15 =$

b  $5 \times 10 =$

$5 \times 11 =$

$5 \times 13 =$

$5 \times 15 =$

c  $4 \times 11 =$

$4 \times 12 =$

$4 \times 13 =$

$4 \times 15 =$

d  $6 \times 10 =$

$6 \times 12 =$


$12 \times 6 =$

$13 \times 6 =$


**4****Hoe laat is het?**

Schrijf de digitale tijden op.


a



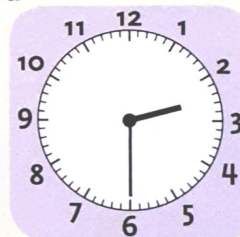
b




c



d



e



f



g




h



i



j

**5****Maak de sommen.**

a  $16 : 4 =$

$24 : 8 =$

$24 : 6 =$

$28 : 7 =$

b  $30 : 5 =$

$36 : 9 =$

$18 : 2 =$

$25 : 5 =$

c  $48 : 6 =$

$54 : 9 =$

$42 : 6 =$

$63 : 7 =$

d  $27 : 3 =$

$15 : 3 =$

$72 : 9 =$

$45 : 5 =$

## 6 Maak de sommen.

a  $20 : 2 =$

$24 : 2 =$

$30 : 2 =$

$40 : 2 =$

b  $30 : 3 =$

$33 : 3 =$

$39 : 3 =$

$45 : 3 =$

c  $55 : 5 =$

$60 : 5 =$

$100 : 5 =$

$125 : 5 =$

d  $60 : 4 =$

$56 : 4 =$

$52 : 4 =$

$64 : 4 =$

## 7 Hoeveel cent is het?

a € 1,25

€ 1,00

€ 2

€ 2,50

b € 2,85

€ 9,98

€ 3,05

€ 8

c € 0,25

€ 0,99

€ 0,80

€ 0,10

d € 0,05

€ 0,01

€ 0,09

€ 0,90

## 8 Geld wisselen.

						
a	€ 0,30	6	€ 1,00		€ 3,00	
b	€ 0,55		€ 1,80		€ 4,00	
c	€ 1,00		€ 3,00		€ 10,00	

## 9 Wat is meer?

a  $7 \times 9$  of  $8 \times 8$

$9 \times 11$  of  $10 \times 10$

$7 \times 7$  of  $8 \times 6$

$10 \times 8$  of  $9 \times 9$

b 405 of 504

399 of 400

101 of 98

874 of 847

c  $63 : 7$  of  $64 : 8$

$54 : 6$  of  $54 : 9$

$40 : 8$  of  $26 : 5$

$28 : 4$  of  $27 : 3$

d  $200 - 34$  of  $200 - 35$

$87 - 29$  of  $90 - 31$

$123 + 76$  of  $53 + 151$

$88 + 99$  of  $93 + 93$

## 10 Rond de bedragen af.

De Super geeft geen  
€ 1,19 wordt € 1,20.



terug.

a € 1,19

€ 2,18

€ 3,17

€ 4,16

b € 0,99

€ 0,54

€ 0,75

€ 0,68

c € 5,05

€ 5,06

€ 5,08

€ 4,99

d € 10,13

€ 14,46

€ 19,94

€ 20,09

1. Meneer Chong heeft 25 kippen in zijn tuin.  
Hij heeft 12 bruine kippen en 4 zwarte kippen.  
De andere kippen zijn wit.  
**Hoeveel witte kippen heeft meneer Chong?**



2. Gerson neemt vandaag 56 knikkers mee naar school.  
Hij verliest er in de pauze 17.  
**Met hoeveel knikkers gaat hij weer naar huis?**



3. Er is een feestje op landhuis Knip.  
Het duurt 2 uur en een kwartier en is om 5 uur afgelopen.  
**Hoe laat is het feestje begonnen?**
4. Juf Sonja heeft 30 rekenschriften op haar tafel liggen.  
Ze maakt er 5 gelijke stapeltjes van.  
**Hoeveel schriften liggen er op elk stapeltje?**

5. Mijn oom Tito gaat naar de kerk.  
De kerkdienst begint om half tien en is om kwart voor elf afgelopen.  
**Hoeveel kwartier heeft de kerkdienst geduurd?**



6. In onze groep zitten 29 kinderen. De juf uit een andere groep is ziek.  
Daarom krijgen we er vandaag 5 kinderen bij.  
**Hoeveel kinderen zitten er vandaag in onze groep?**




7. Tayzir, Edson, Ramon en Denzel gaan vandaag auto's gewassen.  
Ze hebben daar in totaal 84 gulden voor gekregen.  
Ze gaan het geld eerlijk verdelen.  
**Hoeveel gulden krijgt elke jongen?**

8. Shakira koopt met een biljet van 50 gulden een paar slippers.  
Ze krijgt een biljet van 10 gulden en 3 losse gulden terug.  
**Wat kosten de slippers?**



9. In groep 5 B zitten 30 kinderen. Elk kind krijgt 5 dropjes van de juf.  
**Hoeveel dropjes zijn dat samen?**

10. De Julianabrug is  hoog.  
**Welk getal staat er achter de wolk?**  
Kies het juiste hokje.

A.	B.	C.	D.
10 m.	1 km.	56 m.	560 m.

