


1 Zoek bij elk bouwsel de goede plattegrond.
Maak vast.



2	2	2
2	3	2
2	2	2

1	1	2	1
1	2	3	2

2	2	
1	2	2
1	2	3


1		
2	1	2
1	1	

2 Kleur de meisjes geel en de jongens blauw.


a 60% meisjes en 40% jongens
6 meisjes en 4 jongens



b 40% meisjes en 60% jongens
8 meisjes en 12 jongens



c 30% meisjes en 70% jongens
9 meisjes en 21 jongens



3 Reken uit en vul in.

a

	10	100	1000
34 000	3400	340	34
5000	500	50	5
2500	250	25	2,5
700	70	7	0,7

b

	10	100	1000
51 000	5100	510	51
3900	390	39	3,9
630	63	6,3	0,63
904	90,4	9,04	0,904

c

	100	1000
5100	51	5,1
480	4,8	0,48
67	0,67	0,067
90,4	0,904	0,0904