


1

Hoeveel kilo verschil?

- a) Hoeveel weegt Anka minder dan Timo? _____ kilo
 b) Hoeveel weegt Lars meer dan Roel? _____ kilo
 c) Hoeveel weegt Anka minder dan Roel? _____ kilo
 d) Hoeveel weegt Roel meer dan Timo? _____ kilo
 e) Hoeveel weegt Anka minder dan Lars? _____ kilo
 f) Hoeveel weegt Lars meer dan Timo? _____ kilo
 g) Hoe groot is het verschil tussen de zwaarste en de lichtste? _____ kilo



2

Hoeveel weegt de bagage?

- a) Hoeveel wegen de kleine rugzakjes samen? _____ kilo
 b) Hoeveel wegen de grote rugzakken samen? _____ kilo
 c) Hoeveel wegen de koffers samen? _____ kilo
 d) Hoeveel weegt alle bagage samen? _____ kilo



24 kilo



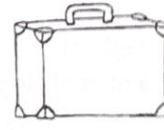
5 kilo



14 kilo



6 kilo



18 kilo

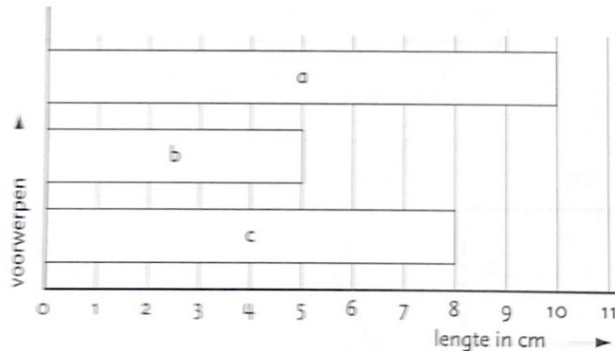


13 kilo

3

Vul de juiste lengte van de rietjes in.

Lees de lengte af in de grafiek.



a _____ cm

b _____ cm

c _____ cm

4

Hoe lang zijn deze rietjes?

Gebruik je liniaal.

a _____ cm

b _____ cm

c _____ cm

5 Kleur en teken.

- a Welke vakjes horen bij de tafel van 3? Kleur die vakjes rood.
 b Welke vakjes horen bij de tafel van 4? Teken een kring om die vakjes.

1	2	3	4	5	6	7	8	9	10
11	12	13	14	15	16	17	18	19	20
21	22	23	24	25	26	27	28	29	30
31	32	33	34	35	36	37	38	39	40

c Rode vakjes met een kring zijn: _____, _____ en _____.

6 Hoeveel?

a 3 bloembollen in een zakje.

- In 2 zakjes: _____ bloembollen
 In 5 zakjes: _____ bloembollen
 In 7 zakjes: _____ bloembollen
 In 9 zakjes: _____ bloembollen



b 1 kwartet heeft 4 kaarten.

- 3 kwartetten: _____ kaarten
 4 kwartetten: _____ kaarten
 6 kwartetten: _____ kaarten
 8 kwartetten: _____ kaarten



7 Hoeveel punten voor de hele figuur?

a $__ \times 5 = __$

b $__ \times 3 = __$

c $__ \times 5 = __$

d $__ \times 4 = __$

e $__ \times 3 = __$

8 Maak de sommen.

- | | | | |
|-----------------------|-----------------------|-----------------------|-----------------------|
| a $2 \times 2 = __$ | b $5 \times 5 = __$ | c $1 \times 4 = __$ | d $8 \times 3 = __$ |
| $4 \times 2 = __$ | $6 \times 5 = __$ | $2 \times 4 = __$ | $6 \times 3 = __$ |
| $6 \times 2 = __$ | $7 \times 5 = __$ | $4 \times 4 = __$ | $9 \times 3 = __$ |
| $8 \times 2 = __$ | $8 \times 5 = __$ | $8 \times 4 = __$ | $7 \times 3 = __$ |

9 Maak de sommen.

- | | | | |
|-----------------------|-----------------------|-----------------------|-----------------------|
| a $1 \times 2 = __$ | b $3 \times 2 = __$ | c $5 \times 2 = __$ | d $9 \times 2 = __$ |
| $2 \times 5 = __$ | $1 \times 5 = __$ | $3 \times 5 = __$ | $9 \times 5 = __$ |
| $3 \times 4 = __$ | $10 \times 4 = __$ | $5 \times 4 = __$ | $7 \times 4 = __$ |
| $2 \times 3 = __$ | $1 \times 3 = __$ | $3 \times 3 = __$ | $5 \times 3 = __$ |