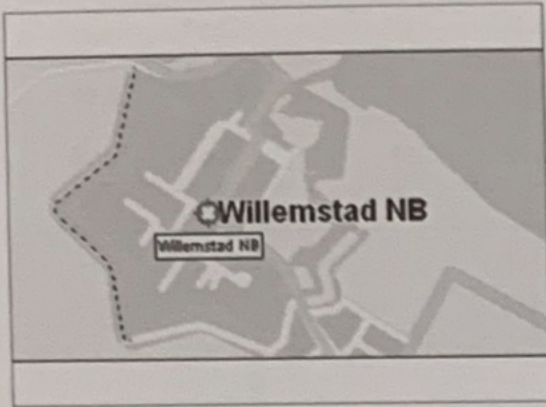


1 Hoeveel kilometer vestingwerken zijn er?
Schat eerst.

a Ongeveer 7 cm, dus 840 m.




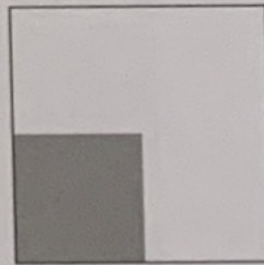

schaal 1 cm = 120 m



b Ongeveer $14 \times 1 \text{ cm} = 14 \times 120 \text{ m} = 1680 \text{ m} = 1,68 \text{ km}$.

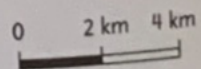
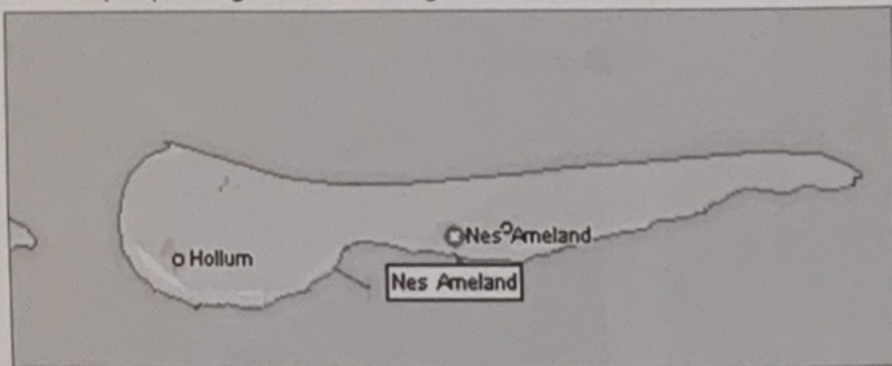


2 Wat is de omtrek van deze figuren? driehoek: 12 cm; vierkant: 12 cm; zeshoek: 12 cm.
Welk deel van de figuren is oranje gekleurd? driehoek $\frac{1}{4}$ deel; vierkant $\frac{1}{4}$ deel; zeshoek $\frac{1}{4}$ deel.



3 Bekijk de kaart van Ameland. Samen bespreken.

a Kun je op 1 dag een wandeling rond het hele eiland maken?



b Schat de oppervlakte van het eiland.