


# Rekenen-Wiskunde, deel 2, taak 1

Bij deze taak mag je geen kladblaadje gebruiken.

1  $46392 + 2608 =$

- A 48 000
- B 48 900
- C 49 000
- D 50 000

2



Hoeveel cl water zit in deze kan?

- A 1,20 cl
- B 12 cl
- C 120 cl
- D 1 200 cl

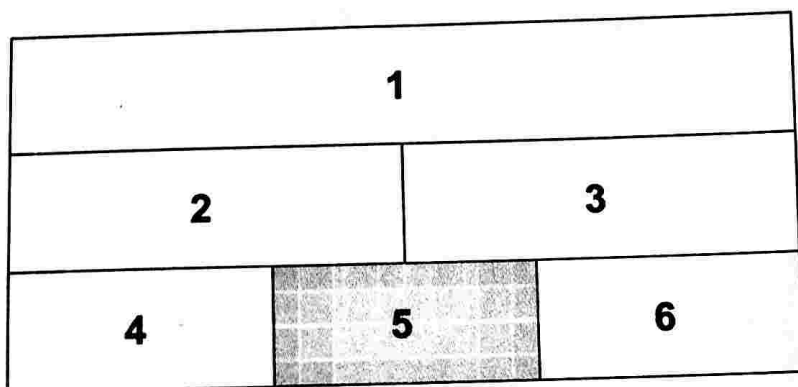
3  $\frac{24}{30} = \dots\%$

- A 8
- B 20
- C 72
- D 80

- 4 Annie heeft 34 armbandjes en Sharon heeft er 22.  
Ze spelen een spelletje en na het spel hebben ze evenveel.  
Hoeveel armbandjes heeft Sharon gewonnen?

- A 5
- B 6
- C 12
- D 28

5



Hoeveel procent is de oppervlakte van vakje 5 van de totale figuur?

- A  $11\frac{1}{9}\%$
- B  $16\frac{2}{3}\%$
- C 20 %.
- D  $33\frac{1}{3}\%$

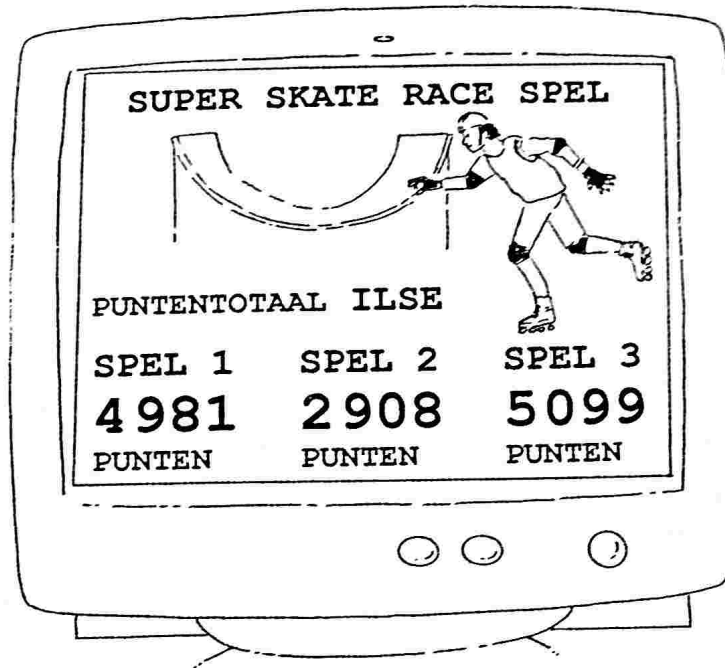
- 6 Voor 24 pannenkoeken gebruikt de kok 4 eieren.  
Vorig weekeinde verkocht "Het Pannenkoekenhuisje" 108 pannenkoeken.  
Hoeveel eieren gebruikte de kok?

- A 5
- B 6
- C 18
- D 27

7  $2\,486 - 399 =$

- A 2085
- B 2086
- C 2087
- D 2097

8



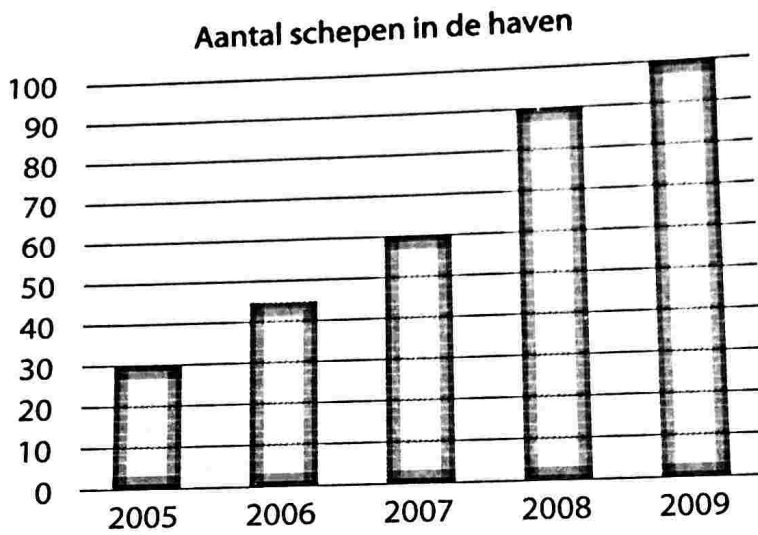
Ilse speelt het Super-skate-race-spel.  
Ze heeft drie spelletjes gespeeld.  
Hoeveel punten heeft ze ongeveer in totaal gehaald?

- A 11 000
- B 12 000
- C 13 000
- D 14 000

9  $83 \times 7 =$

- A 581
- B 591
- C 651
- D 671

10



Welke uitspraak is niet waar?

- A In 2006 is het aantal cruiseschepen met 50% gestegen in vergelijking met 2005.
- B In 2008 is het aantal cruiseschepen met 50% gestegen in vergelijking met 2007.
- C In 2008 is het aantal cruiseschepen met 100% gestegen in vergelijking met 2006.
- D In 2009 is het aantal cruiseschepen met 100% gestegen in vergelijking met 2008.

11 4 kinderen maken de volgende som:

$$1589 - 203 =$$

Wie komt het dichtst bij de goede uitkomst?

1 500 - 200

Karin

1 580 - 200

Mario

1 600 - 200


Nina

1 590 - 200

Zahir

- A Karin
- B Mario
- C Nina
- D Zahir

12



Welk stukje van de letter "L" is hier grijs gemaakt?

- A  $\frac{1}{3}$  deel
- B  $\frac{1}{4}$  deel
- C  $\frac{3}{4}$  deel
- D  $\frac{3}{6}$  deel

13  $30,1 \times 50 =$

- A 15,05
- B 150,5
- C 1 505
- D 1 550

14 Sergi doet inkopen bij de supermarkt.  
In zijn boodschappenmand heeft hij het volgende:

1 dozijn eieren	f. 4,97
1 blik doperwten	f. 3,06
1 kilo aardappelen	f. 8,48
1 pot mayonaise	f. 3,75
6 appels voor	f. 5,97

Hoeveel moet Sergi ongeveer betalen?

- A f. 23,-
- B f. 26,-
- C f. 27,-
- D f. 28,-

15 Wat moet op de plaats van de stippellijn staan?

$$15 \dots \frac{1}{3} = \frac{46}{3}$$

- A +
- B -
- C x
- D :


16 Ina en Ana spelen het Spaarspel.  
Ina heeft 3 briefjes van 10 000 punten,  
1 briefje van 1 000 punten en 2 briefjes van 10 punten.  
Hoeveel punten heeft Ina in totaal?

- A 3 120
- B 4 020
- C 11 010
- D 31 020

17  $8 \times 199 =$

- A 1 592
- B 1 599
- C 1 602
- D 1 608

18



Wat is de hoogte van de Koningin Julianabrug?

- A 55 cm
- B 55 dm
- C 55 m
- D 55 km

19 Wat ligt het dichtst bij

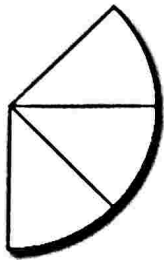
$$250,129 \times 24,921 =$$

- A 250 x 24
- B 250 x 25
- C 251 x 24
- D 251 x 25

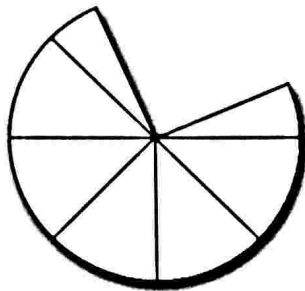
20 Twee vrachtwagens wegen hun lading.  
Vrachtwagen 1 weegt 3052 kg en vrachtwagen 2 weegt 2995 kg.  
Hoeveel is vrachtwagen 1 zwaarder?

- A 43 kg
- B 47 kg
- C 52 kg
- D 57 kg

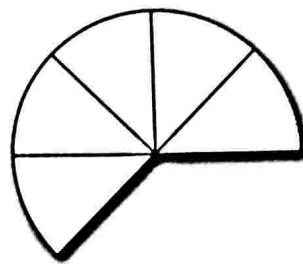
21



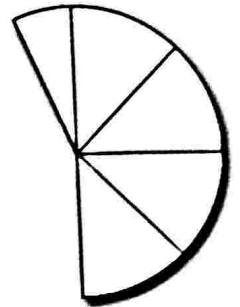
pizza 1



pizza 2



pizza 3



pizza 4


Van welke pizza is al  $\frac{3}{8}$  deel opgegeten?

- A pizza 1
- B pizza 2
- C pizza 3
- D pizza 4

22  $3,05 + 3,5 + 300 + 30 =$

- A 333,55
- B 336,10
- C 336,55
- D 337,00





Een melkkoe geeft gemiddeld 24 liter melk per dag.

Boer Jaspers heeft 50 melkkoeien.

Hoeveel liter melk krijgt de boer ongeveer per dag van deze koeien?

- A 120 liter
- B 1 004 liter
- C 1 020 liter
- D 1 200 liter

24 Juffrouw Jessy koopt voor haar school 5 dozen kopieerpapier.

In elke doos zitten 5 pakken.

In elk pak zitten 500 blaadjes.

Hoeveel blaadjes heeft juffrouw Jessy gekocht?


- A 1 250
- B 2 500
- C 5 000
- D 12 500

25 Tijdens een voetbaltoernooi heeft Johny 10 keer een doelpunt gemaakt en Sonny 6 keer.


Wat is de verhouding tussen het aantal doelpunten van Johny en Sonny?

- A 1:4
- B 3:5
- C 4:1
- D 5:3

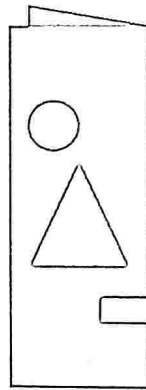
26



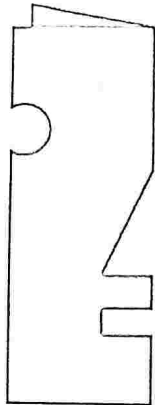
Hierboven zie je een masker.  
 Dat is geknipt uit een dubbelgevouwen vel papier.  
 Uit welk vel papier is dat geknipt?



A



C



B



D

27  $\frac{1}{5}$  deel van 825 =

- A 145
- B 160
- C 165
- D 210

28  $9\,999,99 : 25$  is ongeveer

- A 40
- B 400
- C 4 000
- D 40 000

29 In Tamara's toets zijn alle sommen evenveel punten waard. Ze heeft 30% goed gemaakt, daarvoor krijgt ze 45 punten. Hoeveel punten krijgt Tamara, als ze alle sommen goed heeft?

- A 75 punten
- B 105 punten
- C 135 punten
- D 150 punten

30 Meneer Gomez koopt voor zijn vrouw een boeket rozen. Hij betaalt met een briefje van f. 25,-. Hij krijgt 3 stuivers, 3 kwartjes en 2 dubbeltjes terug. Hoeveel kosten de rozen?

- A f. 23,80
- B f. 23,90
- C f. 24,90
- D f. 26,10