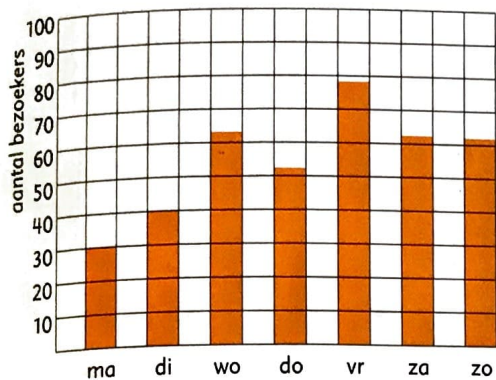


1 Hoeveel mensen bezoeken het museum?




- a Op welke dag kwamen de meeste bezoekers? Hoeveel waren dat er ongeveer?
- b Hoeveel bezoekers waren er ongeveer in de hele week?
- c Een toegangskaartje kost € 4,50. Hoeveel geld heeft het museum deze week ongeveer ontvangen?
- d 50 leerlingen hebben deze week museum Potter bezocht. Verder was er die dag bijna niemand. Welke dag was dat, denk je?
- e Stel, het museum heeft een actie: elke tweede bezoeker voor half geld. Hoeveel geld heeft het museum dan deze week ongeveer ontvangen?

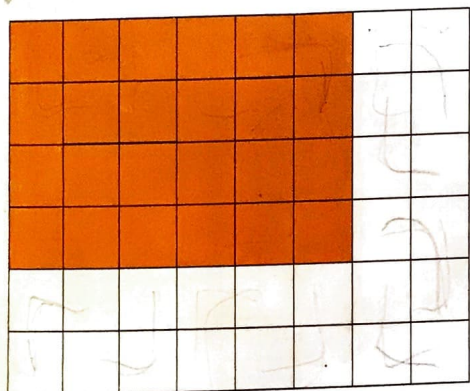
2 Hoe betaal je? Hoeveel krijg je terug?

Betaal met briefjes van € 10, € 20 of € 50.

	Je moet betalen:	Je geeft:	Je krijgt terug:
a	€ 34,80
b	€ 104,20
c	€ 126,35



3 Reken uit.

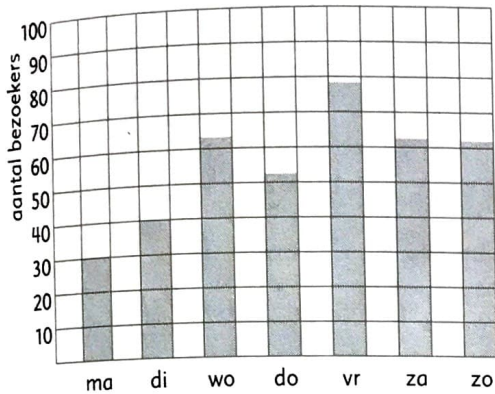


- a Hoeveel kost het oranje stuk vloer?
- b Wat kost het betegelen van de hele vloer? Laat zien hoe je rekent.



- c Ontwerp een vloer met deze 3 kleuren. Wat kost jouw vloer? Teken en reken.

1 Hoeveel mensen bezoeken het museum?




- a Op welke dag kwamen de meeste bezoekers? Hoeveel waren dat er ongeveer? **vrijdag: 85**
- b Hoeveel bezoekers waren er ongeveer in de hele week? **ongeveer 385**
- c Een toegangskaartje kost € 4,50. Hoeveel geld heeft het museum deze week ongeveer ontvangen? **ongeveer € 1730**
- d 50 leerlingen hebben deze week museum Potter bezocht. Verder was er die dag bijna niemand. Welke dag was dat, denk je? **donderdag**
- e Stel, het museum heeft een actie: elke tweede bezoeker voor half geld. Hoeveel geld heeft het museum dan deze week ongeveer ontvangen? **ongeveer € 1300**


2 Hoe betaal je? Hoeveel krijg je terug?

Betaal met briefjes van € 10, € 20 of € 50.

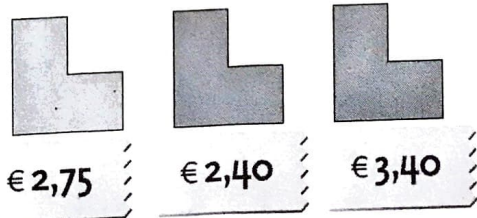
	Je moet betalen:	Je geeft:	Je krijgt terug:
a	€ 34,80	€ 40	€ 5,20
b	€ 104,20	€ 110	€ 5,80
c	€ 126,35	€ 130	€ 3,65



3 Reken uit.



- a Hoeveel kost het oranje stuk vloer? **€ 19,20**
- b Wat kost het betegelen van de hele vloer? Laat zien hoe je rekent. **€ 38,40**



- c Ontwerp een vloer met deze 3 kleuren. Wat kost jouw vloer? Teken en reken. **Meer antwoorden.**