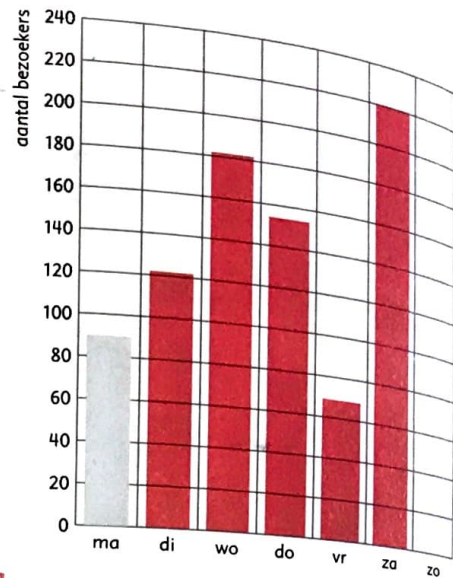


1

Kleur het goede aantal vakjes.

Zoveel bezoekers had de speeltuin in 1 week.

maandag	90 bezoekers
dinsdag	122 bezoekers
woensdag	182 bezoekers
donderdag	154 bezoekers
vrijdag	69 bezoekers
zaterdag	220 bezoekers



- a Op welke dag kwamen de meeste bezoekers? zaterdag
- b Hoeveel bezoekers waren er ongeveer op dinsdag en woensdag samen? 300
- c Hoeveel bezoekers waren er ongeveer in de hele week? 800
- c Een kaartje kost € 1,50. Hoeveel euro ontving de speeltuin op maandag?
De som is $90 \times 1,50 = \text{€ } 135$
- e Op zaterdag zijn de kaartjes voor de helft van de prijs.
Hoeveel euro ontving de speeltuin op zaterdag?
De som is $220 \times 0,75 = \text{€ } 165$, of de helft van $220 \times 1,50 = \text{€ } 165$


2

Hebben de klanten van bakkerij Loeffen genoeg geld bij zich?

Schat het eerst. Zet een rondje om het goede antwoord. Reken het daarna precies uit.



a



ja/nee

€ 3,20


b



ja/nee

€ 6,95


c



ja/nee

€ 10,48

d



ja/nee


€ 20,38

3


Teken steeds de hele reep. Er staat al een deel.

Schrijf bij elke reep hoeveel erbij komt.

a

Dit is $\frac{1}{4}$ deel.Er komt $\frac{3}{4}$ bij.

b

Dit is $\frac{1}{3}$ deel.Er komt $\frac{2}{3}$ bij.

c

Dit is $\frac{5}{6}$ deel.Er komt $\frac{1}{6}$ bij.