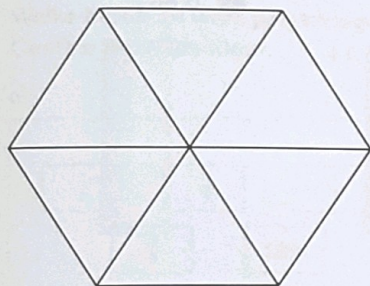


1 Hoeveel liter zit erin?
Vul de tabel in.


	a	b	c	d	e	f
lengte	3 dm	4 dm	30 cm	60 cm	0,4 m	2,5 m
breedte	2 dm	2,5 dm	20 cm	35 cm	0,25 m	$\frac{1}{2}$ m
hoogte	2 dm	3 dm	30 cm	40 cm	0,25 m	$\frac{1}{2}$ m
inhoud in dm ³	dm ³	dm ³	dm ³	dm ³	dm ³	dm ³
inhoud in liters	l	l	l	l	l	l

2 Kleur de delen.

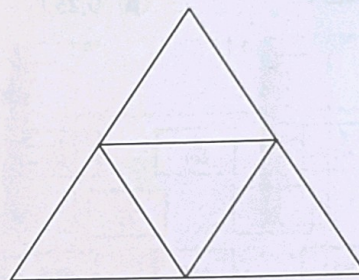
a
Kleur $\frac{1}{3}$ deel rood.
Kleur $\frac{1}{6}$ deel blauw.
Kleur $\frac{1}{2}$ deel geel.



b
Kleur 65% rood.
Kleur 10% blauw.
Kleur 25% geel.



c
Kleur $\frac{1}{4}$ deel rood.
Kleur $\frac{1}{2}$ deel blauw.
Kleur de rest geel. Dat is $\frac{1}{4}$ deel.



3 Zet op volgorde van klein naar groot.

a

0,6	0,7	0,1	0,2	0,4

b

0,7	1,5	7,0	5,1	3,3

c

1,85	1,8	2,35	3,25	2,3

d

1,18	1,08	1,81	1,01	1,009

4 Maak de getallen vast op de getallenlijn.
Doe het zoals in het voorbeeld.

