

**1** Reken uit.

a

1	5	2	:	8	=		

b

1	3	0	:	7	=		

c

1	5	2	4	:	8	=		

**2** Kleur de delen.

a Kleur:

- 10% rood
- 20% groen
- 30% blauw
- 40% geel

b Kleur:

- $\frac{1}{3}$  rood
- $\frac{1}{5}$  blauw
- $\frac{2}{5}$  groen
- De rest zwart.

Dat is \_\_\_\_deel.

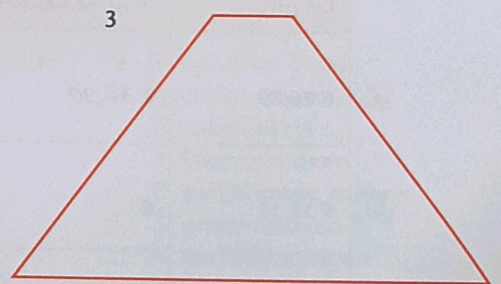


c Kleur:

- $\frac{1}{3}$  rood
- $\frac{1}{4}$  groen
- $\frac{1}{6}$  blauw
- $\frac{2}{9}$  geel
- De rest zwart.

Dat is \_\_\_\_deel.

**3** Reken met omtrek en oppervlakte.

- a De omtrek van het vierkant is \_\_\_\_\_ x \_\_\_\_\_ = \_\_\_\_\_ cm.
- b De oppervlakte van het vierkant is \_\_\_\_\_ x \_\_\_\_\_ = \_\_\_\_\_ cm<sup>2</sup>.
- c Welke 2 figuren hebben dezelfde omtrek? \_\_\_\_\_
- d Wat is de oppervlakte van figuur 3? \_\_\_\_\_ cm<sup>2</sup>



**4** Maak de rijen af.

a		0,4	0,6	0,8	1,0			
b			0,9	0,12				
c			1,8	2,4				
d			0,88	1,32				