

- ★ 1

 - 1 De baas speelt
 - 2 Een hond vraagt
 - 3 Jij gooit
 - 4 Ik breng
 - 5 Ik doe
 - 6 Ik ren

- ★★ 2

 - 1 Zit
 - 2 Wonen
 - 3 Willen
 - 4 Bakken
 - 5 Moet
 - 6 Kan

- ★★★ 3

 - 1 Er woont een man in Delden.
 - 2 Hij loopt alleen maar te schelden.
 - 3 Wij roepen hard, 'niet doen!'
 - 4 En geven hem een zoen.
 - 5 Nu scheldt de grijsaard nog zelden.

- 4

Er woonden twee bakkers in Assen.
 Die wilden hun Suze verrassen.
 Ze bakten een brood.
 Dat brood moest heel groot.
 Zodat Suze er zelf in kon passen.


Antwoorden groep 5 blok 5 blad 1 (17)

Redactie

1	D. 40 cm.
2	8 m.
3	14.15 uur kwart over 2
4	24 poten
5	20 dm.
6	2 spekjes
7	5 weken
8	20 knikkers
9	Na zes dagen.
10	10 briefjes

bele spatie tussen 2 in 1 en 2.

1 Waar zijn de foto's genomen?

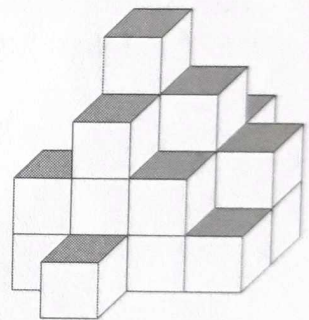


- a Welke foto is aan de voorkant genomen? **1**
- b Welke aan de achterkant? **3**
- c Welke aan de rechterkant? **2**
- d Welke aan de linkerkant? **4**


2 Tel de blokjes die je ziet.

Er zijn niet meer blokjes dan je op de tekening ziet.

- a Hoeveel blokjes tel je als je tegen de voorkant aankijkt? **11**
 - b Hoeveel zie je aan de rechterkant? **10**
 - c Hoeveel aan de linkerkant? **10**
 - d Hoeveel aan de achterkant? **11**
- En uit hoeveel blokjes bestaat het hele bouwwerk? **20**



3 Klokkijken.



- a Hoe laat is het op klok 1? **Kwart voor 8.**
- b Hoeveel minuten zit er tussen klok 2 en 3? **50 minuten.**
- c Hoeveel minuten zit er tussen klok 3 en 4? **35 minuten.**
- d Hoeveel minuten zit er tussen klok 1 en 4? **230 minuten of 3 uur en 50 minuten.**

4 Hoe laat is het?

- a Hoeveel minuten duurt het nog tot 5 uur? **25**
- b Hoe laat was het 5 minuten geleden? **Half 5**
- c Hoe laat is het over een half uur? **5 minuten over 5**
- d Hoe laat is het over 3 kwartier? **10 minuten voor half 6**

