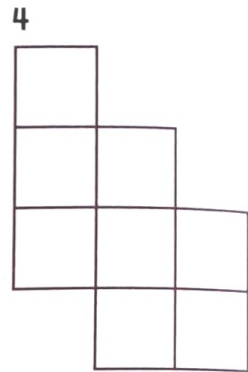
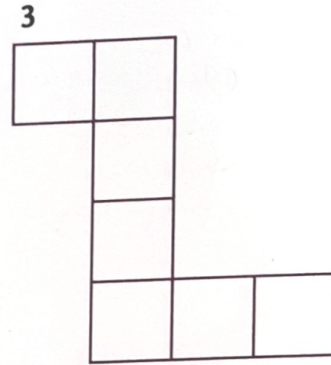
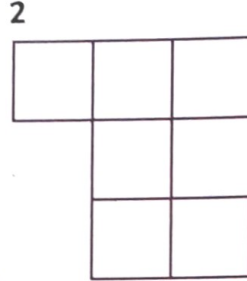
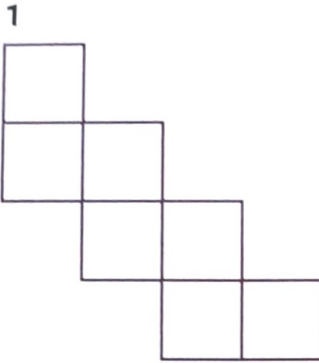





## 1 Omtrek en oppervlakte.



- Welk figuur heeft de grootste oppervlakte?  
Welk figuur heeft de kleinste oppervlakte?
- Zoek de 2 figuren met de grootste omtrek.  
Zoek de 2 figuren met de kleinste omtrek.
- Hoeveel is de grootste figuur groter dan de kleinste?
- Hoe bereken je de omtrek van 4 het makkelijkst?


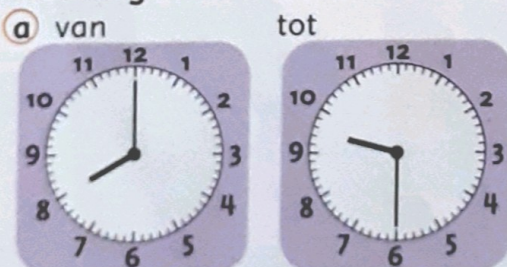
## 2 Bekijk de 4 rechthoeken goed.

Meet met je liniaal.



- Zoek de grootste rechthoek.  
Zoek de kleinste rechthoek.
- Welke rechthoeken hebben de kleinste omtrek?
- Daan zegt: 'De kleinste figuur heeft de grootste omtrek.' Heeft hij gelijk?

## 3 Hoe lang duurt de film?





4

Reken uit.

- |                         |                            |                             |                             |
|-------------------------|----------------------------|-----------------------------|-----------------------------|
| <b>a</b> $24 + 35 = 59$ | <b>b</b> $41 + \dots = 90$ | <b>c</b> $65 + \dots = 131$ | <b>d</b> $77 + \dots = 165$ |
| $44 + \dots = 61$       | $73 + \dots = 100$         | $59 + \dots = 118$          | $86 + \dots = 181$          |
| $38 + \dots = 89$       | $62 + \dots = 110$         | $115 + \dots = 143$         | $254 + \dots = 317$         |
| $27 + \dots = 60$       | $39 + \dots = 110$         | $164 + \dots = 200$         | $169 + \dots = 244$         |

5

Reken uit.

- |                                     |                                     |                                       |  |
|-------------------------------------|-------------------------------------|---------------------------------------|--|
| <b>a</b> Vul aan tot € 1 met centen | <b>b</b> Vul aan tot € 2 met centen | <b>c</b> Vul aan tot € 5 en gebruik € | <b>d</b> Vul aan tot € 20 en gebruik € |
| 45 c                                | 40 c                                | € 1,20                                | € 9,65                                 |
| 55 c                                | 165 c                               | € 3,85                                | € 3,05                                 |
| 85 c                                | 90 c                                | € 1,50                                | € 14,99                                |
| 70 c                                | 115 c                               | € 2,89                                | € 10,30                                |

6




Hoeveel?

1 m = 100 cm; 1 l = 100 cl; 1 l = 1000 ml; 1 km = 1000 m

- |  |   |
|--|---|
| <b>a</b> $40 \text{ cl} + 60 \text{ cl} = 1 \text{ l}$     | <b>b</b> $75 \text{ cm} + \dots = 1 \text{ m}$  |
| $23 \text{ cl} + \dots \text{ cl} = 1 \text{ l}$           | $34 \text{ cm} + \dots = 1 \text{ m}$           |
| $55 \text{ cl} + \dots \text{ cl} = 1 \text{ l}$           | $109 \text{ cm} + \dots = 2 \text{ m}$          |
| $5 \text{ cl} + \dots \text{ cl} = 1 \text{ l}$            | $\dots + 151 \text{ cm} = 2 \text{ m}$          |
| <b>c</b> $200 \text{ ml} + \dots \text{ ml} = 1 \text{ l}$ | <b>d</b> $125 \text{ m} + \dots = 1 \text{ km}$ |
| $375 \text{ ml} + \dots = 1 \text{ l}$                     | $455 \text{ m} + \dots = 2 \text{ km}$          |
| $\dots + 395 \text{ ml} = 1 \text{ l}$                     | $\dots + 1962 \text{ m} = 2 \text{ km}$         |
| $\dots + 930 \text{ ml} = 1 \text{ l}$                     | $\dots + 1334 \text{ m} = 2 \text{ km}$         |

7

Maak de getallenmuurtjes.





- ★ 1 a Kijk naar je toets. Zoek de woorden die je fout had. Zet er een kruisje voor.
- b Maak van elk woord een woordkaart. Schrijf het woord op de voorkant. Schrijf de betekenis en een voorbeeldzin op de achterkant. Of maak een tekening van het woord. Je mag de woorden opzoeken.

**Doe het zo:**

*de gezichtsuitdrukking*

*Met je gezicht laten zien hoe je je voelt.*

*Aan zijn gezichtsuitdrukking zag ik dat hij verdrietig was.*



**Dit heb je geleerd**

Je oefent nog een keer met de woorden uit de toets.

**Weet je nog?**

bescheiden	het hoofd laten hangen
daarentegen	iets loopt hoog op
Uit je doppen kijken!	het meesterwerk
figuurlijk	opfleuren
furieus	sindsdien

de poëzie



de limerick

het sonnet

de lichaamstaal



de  
gezichtsuitdrukking

de  
lichaamshouding

2 Zoek bij elk woord hoort het tegengestelde. Schrijf het op.

Doe het zo: 1 *figuurlijk* – *letterlijk*

- |                          |               |
|--------------------------|---------------|
| 1 figuurlijk             | niet opletten |
| 2 het hoofd laten hangen | het prutswerk |
| 3 uit je doppen kijken   | letterlijk    |
| 4 bescheiden             | opfleuren     |
| 5 het meesterwerk        | opschepperig  |

3 a Lees het gedicht. Is het poëzie, een sonnet of een limerick? Schrijf het op.

Doe het zo: *Het gedicht is ...*

b Schrijf de zinnen op waarin lichaamstaal wordt beschreven. Schrijf ook op of het om een lichaamshouding of een gezichtsuitdrukking gaat.

Doe het zo: *lichaamstaal: ...*

4 Maak nu zelf een limerick.  
De rijmwoorden krijg je al!

Doe het zo:

*Een ridder in Tietjerksteradeel*

*... kasteel*

*... mis*

*... is*

*... kameel*



Een jongen op Rottumerplaat  
Had ruzie met een piraat  
Hij maakte zich breed  
En wat hij ook deed:  
Hij keek echt verschrikkelijk kwaad!



- a Lees de woorden van de instapkaart nog eens.  
Ken je ze nu allemaal goed?  
Kies uit: ja – een beetje – nee
- b Schrijf de woorden die je moeilijk vindt nog eens op.