



Les 4 kiezen, schrijven, zoeken

1 doe

doet

deed

doen

deden

houd

houdt

hield

houden

hielden

2 Ze

Tjerk

We

Nesra

werd

deed

zagen

wees

worden

doen

zien

wijzen

3 t.t.

v.t.

ev

mv

hele werkwoord

x

x

zijn

x

x

hebben

x

x

kunnen

x

x

blijven

x

x

zeggen

Klaar? oefening 2

wordt

doet

zien

wijst

oefening 3

was

hebben

kunnen

bleef

zegt


1 Hoeveel procent is gekleurd?

a Kies uit: 20% 25% 30% 50%


1 25%



2 20%



3 50%



4 30%



2 Wat wordt de prijs met 10% prijsverhoging?

Neem de tabellen over en vul in.

a

oude prijs	nieuwe prijs
€ 200	€ 220
€ 50	€ 55
€ 25	€ 27,50

b

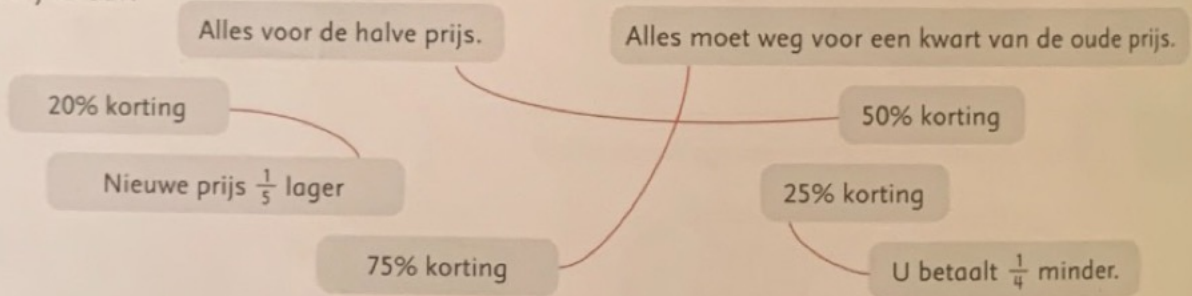
oude prijs	nieuwe prijs
€ 15	€ 16,50
€ 65	€ 71,50
€ 12,50	€ 13,75

c

oude prijs	nieuwe prijs
€ 19,90	€ 21,89
€ 22,40	€ 24,64
€ 9,99	€ 10,99

3 Hoeveel korting?

a Wat hoort bij elkaar?



b

Maak op verschillende manieren reclame voor een boek dat eerst € 20 kostte en nu nog maar € 18.
10% korting; $\frac{1}{10}$ minder; nog maar $\frac{9}{10}$ van de oude prijs

4 Vergelijk de kommagetallen met de breuken.

a

Welke getallen zijn kleiner dan $\frac{1}{2}$?

- 0,25 0,2
 0,45 0,333
 0,75 0,666

b

Welke getallen zijn groter dan $\frac{1}{3}$?

- 0,666 0,125
 0,2 0,9
 0,75 0,50

c

Welke getallen zijn groter dan $\frac{1}{8}$?

- 0,2 0,666 0,10
 0,75 0,01
 0,08 0,8 0,5

1 Kleur de delen.
Vul de legenda in.




a Kleur van deze cirkel 75%.



b Kleur van deze strook 20% geel en 50% blauw.



c Kleur van deze strook 10% geel en 40% blauw.



d Kleur van deze strook 40% geel en 50% blauw.



2 Welke breuk en welk percentage horen bij elkaar?
Geef ze dezelfde kleur.

a

b

c

3 Teken figuren met deze waarden.
Denk ook aan driehoeken. Meer antwoorden.

- €7 a €42 b €28 c €45,50 d €31,50 e €36,75 f €84

