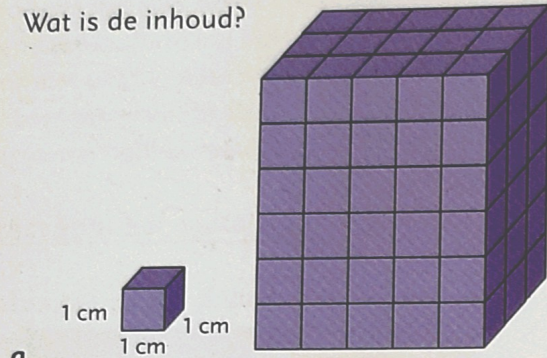
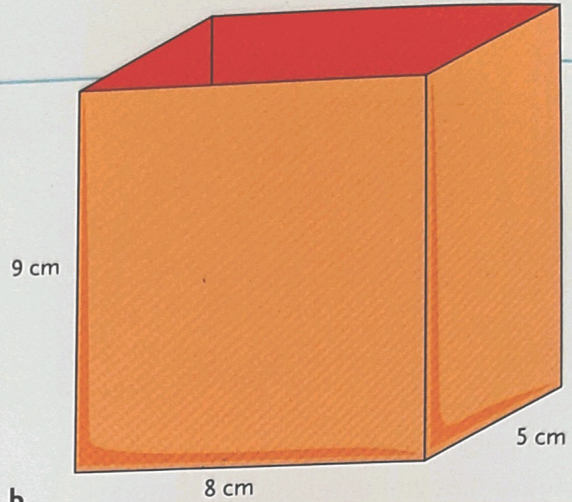


1

Hoeveel blokjes?
Wat is de inhoud?



a
Hoeveel blokjes zijn er per laag?
Hoeveel lagen zijn er?

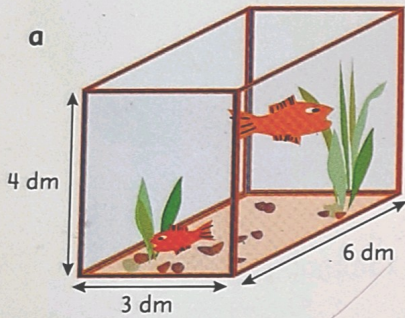


b
Inhoud = lengte × breedte × hoogte (l × b × h)
Wat is de inhoud van deze doos?

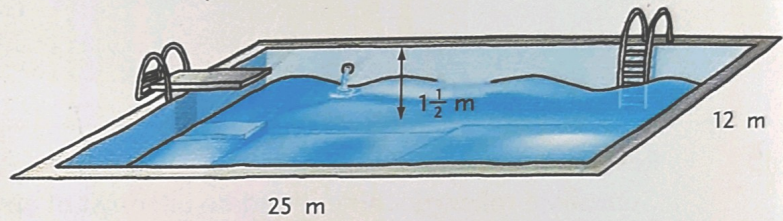
2

Hoeveel liter kan erin?

$1 \text{ dm}^3 = 1 \text{ l}$



b



Tip: maak van meters eerst decimeters.

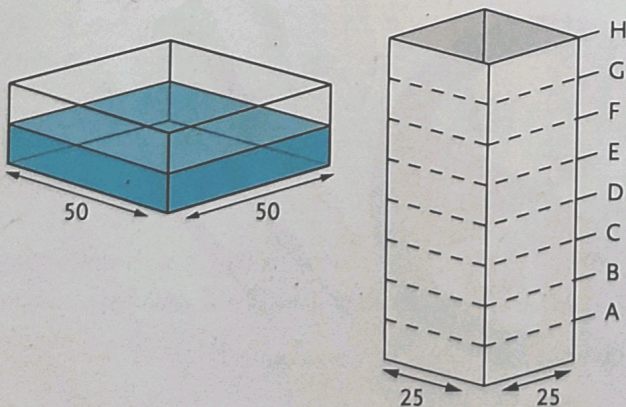
3

Hoeveel liter water kan er in deze zwembaden?
Maten van de zwembaden:

lengte	10 m	8 m	15 m	25 m	50 m
breedte	5 m	8 m	10 m	10 m	15 m
diepte	2 m	1,5 m	2,50 m	3,50 m	3,60 m
inhoud in l

4

Hoe hoog komt het water in de hoge bak?



- a** Sharon giet het water uit de lage bak over in de hoge. Hoe hoog (tot welke letter) komt het water dan in de hoge bak?
- b** Stel dat de lage bak vol is. Sharon giet het water uit de lage bak over in de hoge. Hoe hoog komt het water dan in de hoge bak?