


1


Teken en kleur de muurtjes.

Welke keersommen horen erbij?


a Teken een muurtje van 3 rijen van 5 tegels.



b Teken een muurtje van 6 rijen van 2 tegels.



c Teken een muurtje van 3 rijen van 4 tegels.




2

Teken muurtjes van 20 tegels.

Teken steeds andere muurtjes.

Welke keersommen horen erbij?



3

Hoeveel moeten ze betalen?



a		€ _____	b		€ _____
c		€ _____	d		€ _____
e		€ _____	f		€ _____
g		€ _____	h		€ _____