

1

Hoeveel minuten na 9 uur?

a



__ x 5 minuten
= __ minuten

b



__ x 5 minuten
= __ minuten

c



__ x 5 minuten
= __ minuten

d



__ x 5 minuten
= __ minuten

e



__ x 5 minuten
= __ minuten

2

Hoe laat is het?

Vul in.

a



b



c



d



e




3


Hoeveel tegels passen erop?

Maak er verschillende keersommen bij.


a




b



c



d



4 Hoeveel moeten ze betalen?



a € _____

b € _____

c € _____

d € _____

e € _____

f € _____

g € _____

h € _____

5 Maak de sommen.
Reken uit met de getallenlijn.

a $34 + 25 =$

b $78 + 14 =$

c $67 + 26 =$

d $38 + 57 =$

6 Kleur en teken.
Kleur met potlood.

1	2	3	4	5	6	7	8	9	10
11	12	13	14	15	16	17	18	19	20
21	22	23	24	25	26	27	28	29	30
31	32	33	34	35	36	37	38	39	40
41	42	43	44	45	46	47	48	49	50

- a Welke vakjes horen bij de tafel van 5? Kleur die vakjes rood.
- b Welke vakjes horen bij de tafel van 4? Teken een kring om die vakjes.
- c Rode vakjes met een kring zijn: _____ en _____

7 Maak de sommen.
Kleur de antwoorden die een tiental zijn.

a $30 - 13 =$ _____ b $50 - 15 =$ _____ c $36 - 14 =$ _____ d $28 - 12 =$ _____

$24 - 13 =$ _____ $35 - 15 =$ _____ $20 - 14 =$ _____ $24 - 12 =$ _____

$18 - 13 =$ _____ $40 - 15 =$ _____ $24 - 14 =$ _____ $20 - 12 =$ _____

$21 - 13 =$ _____ $45 - 15 =$ _____ $32 - 14 =$ _____ $22 - 12 =$ _____