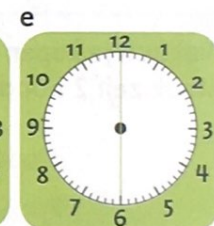
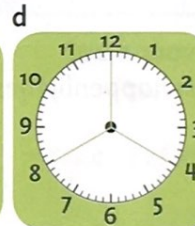
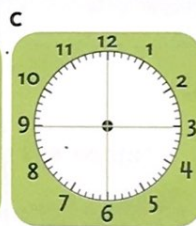
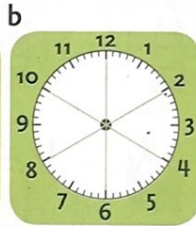



## 1 Hoe gaan de wijzers?



1 uur = 60 minuten

## 2 Hoeveel minuten?



## 3 Ben je op tijd?




## 4 Welke tijd hoort erbij?

Kies de goede tijd erbij.

- a een ei koken
- b een cd draaien
- c een film in de bioscoop
- d een nacht slapen

- 120 minuten
- 10 uur
- 60 minuten
- 5 minuten


1 Hoe laat is het?



f Hoe laat is het over 10 minuten op de klokken?

2 Vertraging.

Hoe laat is het nu? Hoe laat vertrekt de trein?



a Het is ...  
Vertrektijd wordt ...



c Het is ...  
Vertrektijd wordt ...

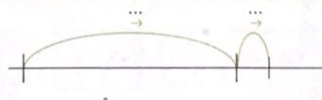
b Het is ...  
Vertrektijd wordt ...



d Het is ...  
Vertrektijd wordt ...

3 Maak de sommen.


Reken uit op je eigen manier.



- |   |            |   |             |   |             |   |             |
|---|------------|---|-------------|---|-------------|---|-------------|
| a | $15 + 8 =$ | b | $65 + 18 =$ | c | $17 + 46 =$ | d | $54 + 38 =$ |
|   | $27 + 9 =$ |   | $68 + 15 =$ |   | $27 + 36 =$ |   | $27 + 27 =$ |
|   | $48 + 4 =$ |   | $27 + 54 =$ |   | $58 + 15 =$ |   | $39 + 15 =$ |
|   | $64 + 7 =$ |   | $24 + 57 =$ |   | $48 + 25 =$ |   | $33 + 59 =$ |

4 Maak de sommen.

Reken uit op je eigen manier.



- |   |            |   |             |   |             |   |             |
|---|------------|---|-------------|---|-------------|---|-------------|
| a | $20 - 4 =$ | b | $40 - 12 =$ | c | $50 - 38 =$ | d | $42 - 26 =$ |
|   | $30 - 7 =$ |   | $60 - 17 =$ |   | $60 - 23 =$ |   | $63 - 46 =$ |
|   | $15 - 9 =$ |   | $70 - 14 =$ |   | $80 - 54 =$ |   | $94 - 39 =$ |