

1


Hoe laat is het?

Geef 2 digitale tijden. Zo precies mogelijk!

a



b



c



d



e



2

Hoe laat is het over 1 seconde?

a

b

c

d

e

f

g


het is nu	08.25.12	12.05.34	06.45.03	13.39.29	17.48.09	16.49.59	17.59.59
1 seconde later is het

3

Reken uit.

Een nieuwe vloer.

- a Hoe duur zijn 10 tegels?
- b Hoeveel tegels heeft de vloer?
- c Hoeveel kost de hele vloer?
- d Wat is de oppervlakte van de vloer?
- e Bij een andere winkel kosten 5 tegels € 11,40. Is dit voordeliger? Hoe groot is het verschil voor de hele vloer?



25 x 25 cm

€ 2,40

4

Hoeveel kost het?

a

aantal planken	1	10	20	120
prijs	€ 6	€ ...	€ ...	€ ...

b

aantal tegels	1	4	12	84
prijs	€ 2,50	€ ...	€ ...	€ ...

5

Reken uit.

Splits handig.

a

$660 : 6 =$

$6600 : 6 =$

$6060 : 6 =$

$6066 : 6 =$

b

$440 : 4 =$

$448 : 4 =$

$4048 : 4 =$

$4448 : 4 =$

c

$550 : 5 =$

$545 : 5 =$

$5055 : 5 =$

$5545 : 5 =$

d

$981 : 9 =$

$9810 : 9 =$

$9009 : 9 =$

$9981 : 9 =$

som b overslaan.

7 Welke breuken horen bij de letters?

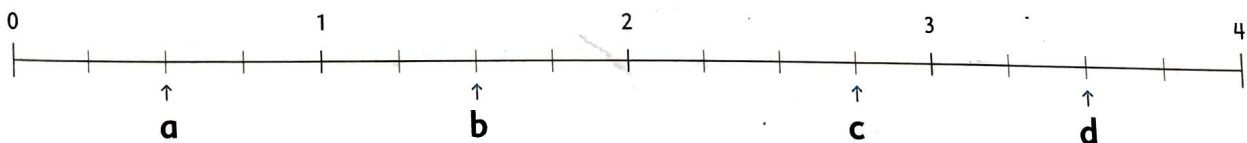
Kies uit:

$1\frac{2}{4}$

$\frac{1}{2}$

$3\frac{1}{2}$

$2\frac{3}{4}$



8 Welke breuken horen bij de letters?

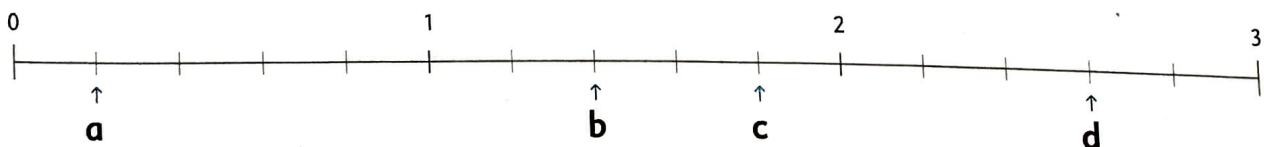
Kies uit:

$1\frac{2}{5}$

$\frac{1}{5}$

$2\frac{3}{5}$

$1\frac{4}{5}$



1 Hoe laat is het? Geef 2 digitale tijden. Zo precies mogelijk!

a 07.20.10
19.20.10

b 08.45.30
20.45.30

c 03.15.42
15.15.42

d 01.34.19
13.34.19

e 00.47.54
12.47.54

2 Hoe laat is het over 1 seconde?

	a	b	c	d	e	f	g
het is nu	08.25.12	12.05.34	06.45.03	13.39.29	17.48.09	16.49.59	17.59.59
1 seconde later is het	08.25.13	12.05.35	06.45.04	13.39.30	17.48.10	16.50.00	18.00.00

3 Reken uit. Een nieuwe vloer.

- a Hoe duur zijn 10 tegels? € 24
- b Hoeveel tegels heeft de vloer? 120
- c Hoeveel kost de hele vloer? € 288
- d Wat is de oppervlakte van de vloer? 30 m²
- e Bij een andere winkel kosten 5 tegels € 11,40. Is dit voordeliger? Hoe groot is het verschil voor de hele vloer?
Ja. € 288 - € 273,60 = € 14,40

25 x 25 cm € 2,40

4 Hoeveel kost het?

a	aantal planken	1	10	20	120	b	aantal tegels	1	4	12	84
	prijs	€ 6	€ 60	€ 120	€ 720		prijs	€ 2,50	€ 10	€ 30	€ 210

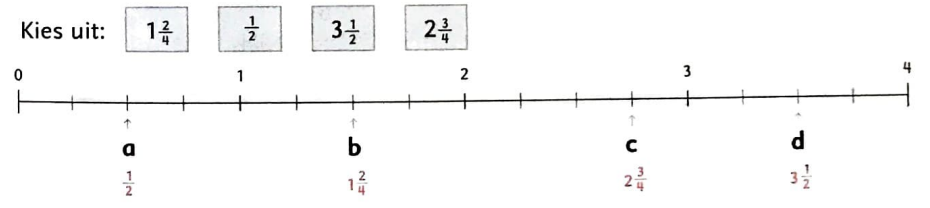
5 Reken uit. Splits handig.

a

660 : 6 = 110	440 : 4 = 110	550 : 5 = 110	981 : 9 = 109
6600 : 6 = 1100	448 : 4 = 112	545 : 5 = 109	9810 : 9 = 1090
6060 : 6 = 1010	4048 : 4 = 1012	5055 : 5 = 1011	9009 : 9 = 1001
6066 : 6 = 1011	4448 : 4 = 1112	5545 : 5 = 1109	9981 : 9 = 1109

som 6 overslaan.

7 Welke breuken horen bij de letters?



8 Welke breuken horen bij de letters?

