

Vraag 1

Bij deze sommen mag je geen uitrekenpapier gebruiken!

$$144 : (16,5 - 4,5) =$$

A	21
B	12
C	11
D	13

Vraag 2

Er komen 420 mensen kijken naar een toneelstuk in Luna Blou.
De verhouding van het aantal vrouwen en mannen is 8 : 6.

Hoeveel mannen zijn er geweest?




A	70
B	140
C	180
D	240

Vraag 3

$$14 \frac{3}{5} + 0,5 =$$

A	15,9
B	16,1
C	16,3
D	15,1

Vraag 4



Waar staat het getal $8 \frac{1}{4}$ op de getallenlijn?

A	
B	
C	
D	

Vraag 5

We hebben een toets Papiaments gehad.
Er waren 80 vragen.
Miluska had 48 vragen goed.

Hoeveel procent had ze fout?

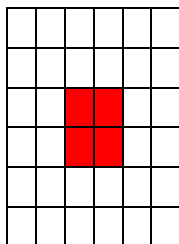


A	28 %
B	40 %
C	60 %
D	32 %

Vraag 6

Bij deze sommen mag je geen uitrekenpapier gebruiken!

Welk deel is rood?



A

1/4

B

1/8

C

1/36

D

1/9

Vraag 7

De familie Louisa heeft 5 kippen.
3 van de 5 zijn wit.

Hoeveel procent is dat?



Volgens mij zit ik in de verkeerde som.

A

20 %

B

40 %

C

50 %

D

60 %

Vraag 8

Volgens mij zit ik in de verkeerde som.



$$12 \times \dots = 6 \times 180$$

A

8

B

80

C

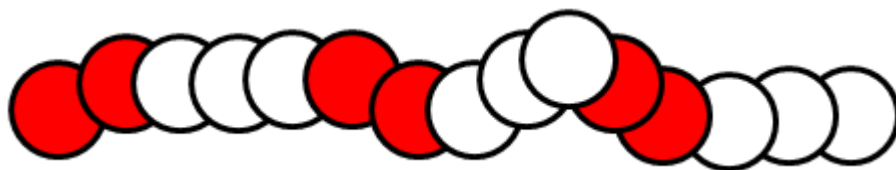
90

D

9

Vraag 9

Jarlenka heeft 150 kralen. Ze heeft rode en witte kralen.
Ze gebruikt dit patroon. Hoeveel rode kralen heeft ze nodig?



A

60

B

90

C

120

D

30

Vraag 10

Er lopen overdag gemiddeld 1.492 mensen per uur over de pontjesbrug.

Hoeveel zijn dat er ongeveer in 8 uur?



A

120.000

B

6.000

C

13.000

D

12.000

HOOFDREKENEN										
blad 7 kaart 21	1	2	3	4	5	6	7	8	9	10
	B	C	D	B	B	D	D	C	A	D